



# EKİNCİ ÖZEL EĞİTİM MESLEK OKULU

HATAY ANTAKYA

## EKİNCİ ÖZEL EĞİTİM MESLEK OKULU

E-KPSS ORTAÖĞRETİM DENEME SINAVI

8

TC KİMLİK NO		OKULU	
ADI SOYADI		ADAY İMZA	
SALON/SIRA NO		SALON GÖREVLİSİ İMZA	

### AÇIKLAMA

1. Bu kitapçıkta Genel Kültür ve Genel Yetenek testi bulunmaktadır.
2. Bu kitapçıkta iki test toplam 60 sorudan oluşmaktadır.
3. Bu kitapçıkta testlerde yer alan her sorunun sadece bir doğru yanıtı vardır. Bir soru için birden çok cevap yeri işaretlenmişse o soru yanlış işaretlenmiş sayılacaktır.
4. İşaretlediğiniz bir cevabı değiştirmek istediğinizde, silme işlemini çok iyi yapmanız gerektiğini unutmayınız.

Bu kitapçık özel eğitim öğrencilerinin E-KPSS çalışmalarına destek olmak amacıyla Ekinci Özel Eğitim Meslek Okulu Sınıf Öğretmeni **Meryem Mızrak** tarafından hazırlanmıştır.

## GENEL YETENEK TESTİ (30 SORU)

- I. Ablam ile kırmızı (al) bir etek aldık.  
II. Kurduğu cümleler belleğime (hafıza) kazanmış.  
III. Hediyen (vazife) beni çok mutlu etti.  
IV. Marketten sadece ihtiyacın (gereksinim) olanları mı aldın?  
V. Sahiplenmek isteğimiz köpeğin gözleri kömür karası (siyah).

**1.Yukarıda numaralanmış cümlelerdeki sözcüklerden hangisi parantez (ayraç) içerisinde verilen sözcük ile anlamca uyuşmamaktadır?**

- A)I B) II C)III D) IV E) V

**2. Aşağıdakilerden hangisi cümle değildir?**

- A) Seni her yerde aradım ama bir türlü bulamadım.  
B) Masanın üzerinde yiyecekler, bilgisayar, kitaplar  
C) Derse iyi hazırlanamamışsın.  
D) Tatlı dil yılanı deliğinden çıkarır.  
E) Okuldan geldin mi?

- I. erken  
II. yol  
III. alır  
IV. kalkan

**3.Yukarıdaki sözcüklerle bir atasözü oluşturulduğunda sıralama nasıl olmalıdır?**

- A) II-IV-III-I  
B) IV-III-II-I  
C) I-IV-III-II  
D) III-IV-II-I  
E) I-IV-II-III

Peki yeni mahallene alışabildin mi ( )

**4.Yukarıdaki cümlenin sonuna hangi noktalama işareti getirilmelidir?**

- A) . B) ? C) , D) ! E) :

Öğretmen bizi 11/D sınıfının kapısında  
.....

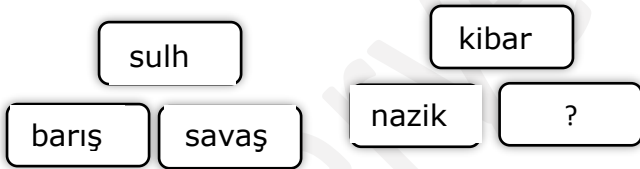
**5.Yukarıdaki cümle aşağıdakilerden hangisi ile anlamlı bir şekilde tamamlanabilir?**

- A) karşıladı  
B) bakıyor  
C) duruyormuş  
D) açmıştır  
E) bekliyorlar

İlman iklim, sıcaklığı çok yüksek ya da çok düşük olmayan demektir. Dünya'nın ılıman bölgeleri, yaz ve kış mevsimlerin belirgin şekilde yaşandığı orta enlemlerde yer alır. Yeterli yağış oldukça bu bölgelerde ormanlar rahatlıkla gelişerek farklı bitki ve hayvan türlerine ev sahipliği yapar. Ormanlar, ağaçların büyüyecekleri kadar sıcak ve yağış alan her yerde gelişir.

**6.Bu metinde aşağıdaki sorulardan hangisinin yanıtı yoktur?**

- A)İlman iklim ne demektir?
- B)Ormanlar nasıl yerlerde gelişir?
- C)Ormanlar nelere ev sahipliği yapar?
- D)İlman ormanlarda hangi hayvanlar yaşayamaz?
- E)İlman bölgelerde mevsimler nasıl şekilde yaşanır?



Sözcükler, kutulara belli bir kurala göre yerleştirilmiştir.

**7.Buna göre "?" olan yere aşağıdakilerden hangisi getirilmelidir?**

- A) uyumlu
- B) yoksul
- C) kaba
- D) akıllı
- E) misafir

**8.Hangi cümlede özel isim bulunmamaktadır?**

- A) Kedisine Tekir diyordu.
- B) Cahildim dünyanın rengine kandım.
- C) Ankara başkentimizdir.
- D) "Şeker Portakalı" kitabından çok etkilenmişsin.
- E) Okulda en iyi anlaştığım arkadaşım Melisa.

**9. "Mezopotamya" sözcüğünün ilk hecesi aşağıdakilerden hangisidir?**

- A) zo
- B) tamyā
- C) Mez
- D) Mezop
- E) Me

I. Yemeklerinizi sıcak yemeniz gerek!

II. Sıcağa dayanır mı bu dondurma?

III.Berber müşterilere sıcak davranıyor.

IV. Bugünlerde hava çok sıcak.

V. Sıcak bir yuva bekliyor sizi.

**10.Yukarıdaki numaralanmış cümlelerin hangisinde "sıcak" sözcüğü sıfat görevinde kullanılmıştır?**

- A)I
- B) II
- C)III
- D) IV
- E) V

**11) Aşağıdaki cümlelerin hangisi bir metnin en sonunda yer alabilir?**

- A) Evvel zaman içinde, kalbur saman içinde bir yalancı çoban varmış.
- B) Önce ellerimizi yıkayalım.
- C) Bir de ne göreyim!
- D) En sonunda evlerine gitmeyi başarmışlar.
- E) Müzik dinleyerek dans ediyormuş o sırada.

**12) Aşağıdaki sözcüklerden hangisine getirilen ek, kesme işareti ile ayrılmaz?**

- A) Kedi
- B) Antakya
- C) Merkür
- D) Mehmet
- E) Atatürk

**13) Aşağıdaki sayılardan hangisi doğru yazılmıştır?**

- A) yüzyirmi
- B) on altı
- C) binyüz onbeş
- D) atmış yedi
- E) kırkbeşbin

**14) Aşağıdaki cümlelerden hangisinde " neden " sorusunun cevabı bulunmamaktadır?**

- A) Hasta bebeğin tedavisi için yardımda bulundu.
- B) Kapalı yerlerden korktuğu için asansöre binemiyor.
- C) Annene çok düşkünsün biliyorum.
- D) Artık büyüdüğün için böyle hatalar yapmamalısın.
- E) Seni sevdiğim için uyarıyorum.



**15) Yukarıdaki görsel ile ilgili sözcük hangisidir?**

- A) Basketbol
- B) Futbol
- C) Voleybol
- D) Tenis
- E) Beyzbol

$$A = \{2, 3, 4, 5, 6\}$$

$$B = \{4, 5, 6, 7, 8, 9, 10\}$$

**16. Olduđuna gore,  $s(A \cup B) + s(A \cap B)$  toplamı katır?**

- A) 11   B) 12   C) 13   D) 14   E) 15

**17.  $A = \{4\text{'ten byk, 20\text{'den kk dođal sayılar}\}$  kmesinin eleman sayısı katır?**

- A) 14  
B) 15  
C) 16  
D) 17  
E) 18

**18. Ařađıdaki ifadelerden hangisi kme belirtmez?**

- A) Sınıfımdaki kız đrenciler  
B) Hatay' ın ileleri  
C) Kurstaki đrenciler  
D) Mahallemizin esnafları  
E) Annemin bazı akrabaları

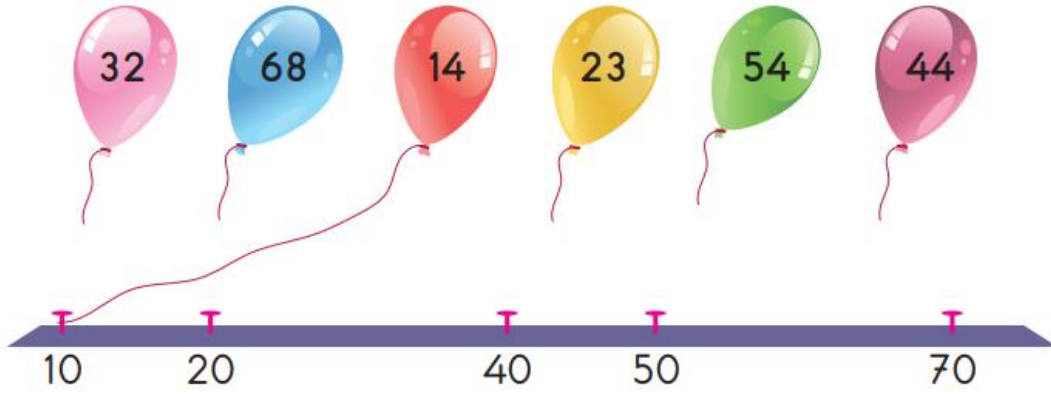
Arzu her seferinde son yazdıđı sayıya 6 ekleyerek bir rnt oluřturuyor.

**19. İlk yazdıđı sayı 11 olduđuna gore beřinci yazdıđı sayı katır?**

- A) 29  
B) 41  
C) 35  
D) 47  
E) 56

**20. 720 033 sayısı ile ilgili ařađıdakilerden hangisi yanlıřtır?**

- A) Birler blđndeki sayı iki basamaklıdır.  
B) Birler blđnde iki farklı rakam vardır.  
C) Binler blđnde iki farklı rakam vardır.  
D) Binler blđndeki sayı ift sayıdır.  
E) Birler blđndeki sayı tek sayıdır.



Yukarıdaki balonlar üzerinde yazan sayıların en yakın olduğu onluğa bağlanacaktır.

**21. Buna göre kaç numaralı balon bağlanmaz?**

- A) 32
- B) 68
- C) 23
- D) 54
- E) 44

$$\sqrt{16} + \sqrt{81} + \sqrt{100} = ?$$

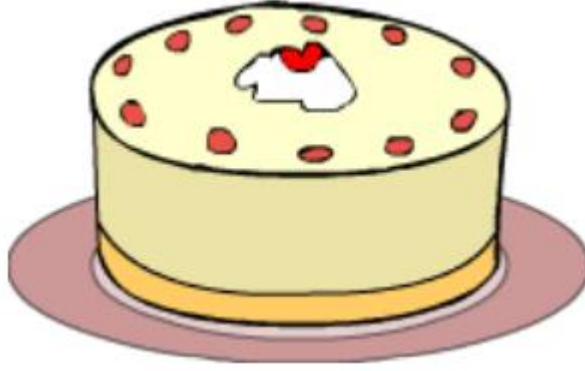
**22. İşleminin sonucu aşağıdakilerden hangisidir?**

- A) 18
- B) 20
- C) 42
- D) 23
- E) 50

3 katlı bir apartmanda 67 kişi yaşamaktadır.

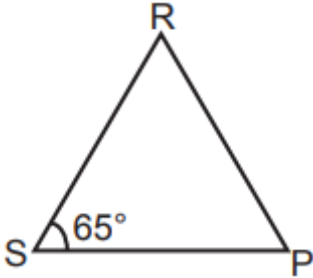
**23. Apartmanın 1. katında 21, 2. katında 26 kişi yaşadığına göre 3. katta kaç kişi yaşamaktadır?**

- A) 12
- B) 14
- C) 16
- D) 18
- E) 20



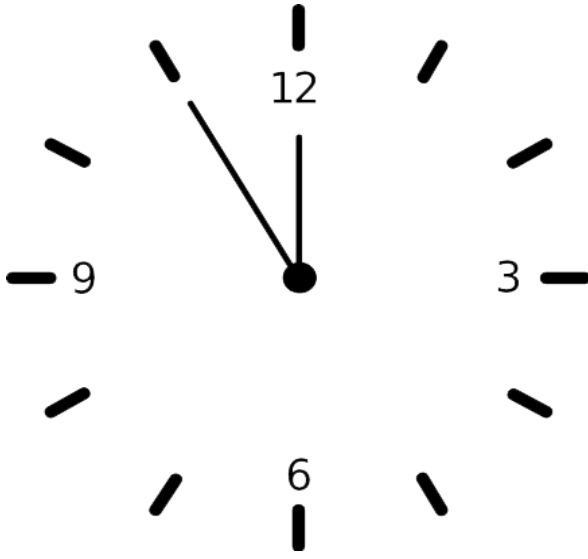
24. Elif doğum günü pastasının  $\frac{1}{8}$  ini kendisi yemiş,  $\frac{3}{8}$  ini arkadaşlarına ikram etmiştir. Daha sonra  $\frac{1}{8}$  ini de annesi yemiş olduğuna göre geriye pastanın kaçta kaç kalmıştır?

- A)  $\frac{1}{2}$
- B)  $\frac{1}{3}$
- C)  $\frac{3}{8}$
- D)  $\frac{3}{4}$
- E) Hiç kalmamıştır.



25. Şekildeki RSP üçgeninde  $m(\widehat{RSP}) = 65^\circ$  ve  $|RS| = |RP|$  olduğuna göre  $m(\widehat{PRS})$  kaç derecedir?

- A) 40
- B) 45
- C) 50
- D) 55
- E) 65



26. Ahmet ` in duvardaki saate baktığı vakit, gün içerisinde öğleden önce olduğuna göre, saati nasıl söylemesi gerekir?

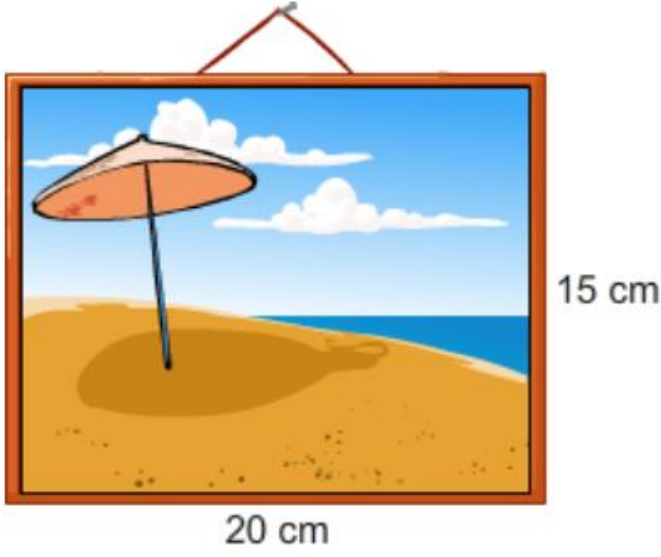
- A) 11.55
- B) 12.00
- C) 23.55
- D) 11.00
- E) 12.05

47-45-43-41-39

27. Yukarıdaki örüntünün kuralı nedir?

- A) Sayılar 2'şer artmaktadır.
- B) Sayılar 2 katına çıkmaktadır.
- C) Sayılar yarıya inmektedir.
- D) Sayılar 1'er eksilmektedir.
- E) Sayılar 2'şer eksilmektedir.

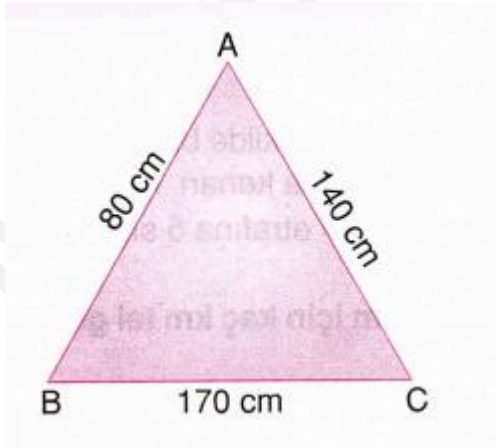




Dikdörtgen şeklindeki çerçevesinin camının kırıldığını gören Meryem, çerçevenin camını değiştirmek istiyor.

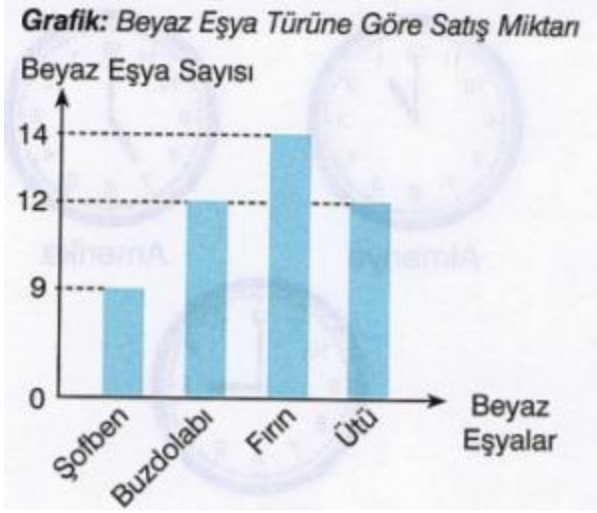
**28. Buna göre Meryem kaç  $\text{cm}^2$  cam kullanmalıdır?**

- A) 300
- B) 320
- C) 120
- D) 150
- E) 500



**29. Yukarıdaki üçgenin çevresi kaç metredir?**

- A) 2
- B) 2,5
- C) 3
- D) 3,9
- E) 4,7



Grafikte bir mağazada satılan beyaz eşyaların türlerine göre satış miktarları gösterilmiştir.

**30. En az ve en çok satılan beyaz eşyalar sırasıyla hangi seçenekte verilmiştir?**

- A) Buzdolabı, fırın
- B) Ütü, fırın
- C) Buzdolabı, şofben
- D) Şofben, fırın
- E) Fırın, şofben

## GENEL KÜLTÜR TESTİ (30 SORU)

### 1. Kişisel bakımımız için aşağıdakilerden hangisini yapmamalıyız?

- A) Tırnaklarımızı kesmeliyiz.
- B) Temiz giysiler giymeliyiz.
- C) Sık sık duş almalıyız.
- D) Dişlerimizi ayda bir fırçalamalıyız.
- E) Ellerimizi sık sık su ve sabun ile yıkamalıyız.

### 2. İslamiyet öncesi Türk edebiyatına ilişkin aşağıda verilen bilgilerden hangisi yanlıştır?

- A) Orhun Yazıtları "Türk" adının geçtiği ilk yazılı belgelerdir.
- B) "Koşuk" şölenlerde söylenen şiirlerdir.
- C) Bu dönemde Latin alfabesi kullanılmıştır.
- D) "Sav" atasözleridir.
- E) "Destan" bağımsızlık, birlik-beraberlik , vatan ve kahramanlık konularını işler.

....., temel ilkelerini Mustafa Kemal Atatürk'ün belirlediği, akli ve bilimi temel alan bir düşünce sistemidir.

### 3. Verilen bilgiyi tamamlamak için boş bırakılan yere aşağıdakilerden hangisi yazılmalıdır?

- A) Atatürkçülük
- B) Ulusalçılık
- C) Milli irade
- D) Siyaset bilimi
- E) Kuramsallık

Her yer işgal altındaydı. Düşman askerleri kadın – çocuk demeden saldırıyorlardı. İnsanlar yaralı ve bitkindi.

### 4. Yalnızca bu bilgiye göre Millî Mücadele yıllarında ülkemizle ilgili aşağıdaki yorumlardan hangisi yapılabilir?

- A) Ülkemizde savaştan dolayı halk, oldukça zor ve vahşet dolu günler yaşıyordu.
- B) Ülkemiz en parlak dönemini yaşıyordu.
- C) Halkı bilinçlendirmek için kongreler düzenleniyordu.
- D) Atatürk işgalleri durdurdu.
- E) Herkes başka ülkelere göç ediyordu.

Osman Bey Dönemi'nde Bizans 'a yönelik fetih politikası izleyen Osmanlı, diğer Anadolu Beyliklerine karşı askeri faaliyetlerde bulunmadı. Mecbur kalmadıkça civar beyliklerle mücadeleye girmekten kaçındı.

- I. Anadolu'da Türk siyasi birliğini büyük ölçüde sağladığı,
- II. Güçlü rakiplerden çekindiği,
- III. İlimli bir siyaset izlemeye çalıştığı

**5.Buna göre Osmanlı Devleti ile ilgili yukarıdakilerden hangilerine ulaşılabilir?**

- A) I ve II
- B) Yalnız III
- C) I, II ve III
- D) I ve III
- E) II ve III

Osmanlı Devleti'nde hayvancılıkla uğraşanlar, şehirlerin et, süt, yoğurt, tereyağı, peynir vb. ihtiyaçlarının çoğunu karşılardı. Ordunun gıda ihtiyacını karşılar ayrıca nakliye hizmeti de verirlerdi.

**6.Bu açıklamada sözü edilen aşağıdakilerden hangisidir?**

- A)Sanatçılar
- B)Tüccarlar
- C)Esnaflar
- D)Zenginler
- E)Konargöçerler

**7.Hangisi doğrudur?**

- A)Bir yılda 3 mevsim vardır.
- B)Bir yılda 7 ay vardır.
- C)Bir yıl 365 gün 6 saattir.
- D)Bir hafta 12 gündür.
- E)Bir yıl 40 haftadır.

Ülkemizde tarım faaliyetleri nüfus yoğunluğu üzerinde etkilidir.

**8.Buna göre aşağıdaki şehirlerin hangisinde nüfusun yoğun olmasında tarımsal faaliyetlerin etkisi daha azdır?**

- A) Adana
- B)Antalya
- C)Konya
- D) İstanbul
- E)Aydın

- Mentеше Yöresi
- Hakkari
- Teke Platosu

**9.Ülkemizde bu yerlerin seyrek nüfuslu olmasının temel sebebi aşağıdakilerden hangisidir?**

- A)Turizme elverişli olması
- B)Dağlık ve engebeli olması
- C)Hayvancılık faaliyetlerinin gelişmiş olması
- D)Su kaynaklarına uzak olması
- E)Sanatsal faaliyetlerin sık yapılması

- Sağlık, eğitim, ulaşım ihtiyaçlarında merkeze bağlı yönetim ile halk arasında bağ kurmak.
- Salgın ve bulaşıcı hastalık durumunda yetkililere haber vermek.
- Seçmen kağıtlarının dağıtılmasını sağlamak.
- Mahallede veya köylerde askerlikle ilgili tebligatların yapılmasını sağlamak

**10.Yukarıda verilen görev tanımları kamu görevlilerinden hangisine aittir?**

- A) Muhtar
- B) Belediye başkanı
- C) Okul müdürü
- D) Vali
- E) Kaymakam

Bir insanın doğuştan sahip olduğu ve insanca yaşayabilmesi için gerekli haklara ★ denir.

**11.Cümlede★ ile boş bırakılan yere aşağıdakilerden hangisi gelmelidir?**

- A) Hayvan hakları
- B) Kadın hakları
- C) Çocuk hakları
- D) Verilmiş haklar
- E) Temel haklar

**12. Ülkemizden doğup komşu ülkeye geçerek denize dökülen en uzun akarsu aşağıdakilerden hangisidir?**

- A) Kızılırmak                      B) Yeşilirmak                      C) Sakarya  
D) Fırat                                      E) Asi

**13. En çok sınır kapısı bulunan ilimiz hangisidir?**

- A)İstanbul  
B)Hatay  
C)Edirne  
D)Ankara  
E)Artvin

**14. Zeugma Mozaik Müzesi hangi ilimizdedir?**

- A) Hatay B) Mersin C) Gaziantep D) Adana E) Şanlıurfa

**15. Aşağıdakilerden hangisi, "deprem öncesinde" alınacak önlemlerden değildir?**

- A)Deprem hakkında ailemizi bilinçlendirmek  
B)Sağlam bir nesnenin yanına çömelmek  
C)Binamızın dayanıklılığını tespit ettirmek  
D)Deprem çantası hazırlamak  
E)Devrilebilecek konumdaki eşyalarımızı duvara sabitlemek

**16. Anaokulu, ilkokul, ortaokul ve lise gibi kurumlar aşağıdaki bakanlıklardan hangisine bağlı olarak çalışırlar?**

- A)Sağlık Bakanlığı  
B)Tarım Bakanlığı  
C)Adalet Bakanlığı  
D) Milli Eğitim Bakanlığı  
E)Kültür ve Turizm Bakanlığı

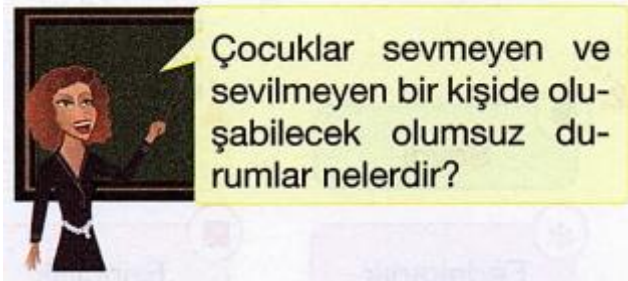
Bazı yerlerin zemininde kaya veya kaygan kil tabakası bulunan toprak parçası yağmur sularını emerek ağırlaşır. Kayganlaşmanın ve eğimin etkisiyle bulunduğu yerde tutunamayıp aşağıya doğru kayar ve yer değiştirir.

**17.Yukarıda bahsedilen doğal afet aşağıdakilerden hangisidir?**

- A) Heyelan
- B) Dolu
- C) Çığ
- D) Deprem
- E) Yangın

**18. Türkiye aşağıdaki kıtalardan hangilerinde yer almaktadır?**

- A) Avrupa - Afrika
- B) Asya - Afrika
- C) Amerika - Asya
- D) Afrika - Amerika
- E) Asya - Avrupa



**19.Öğretmenin sorusuna verilen cevaplardan hangisi yanlış olur?**

- A) İnsanlarla iletişim kuramaz.
- B) Hayatta hep başarılı olur.
- C) Arkadaşsız kalır.
- D) Mutsuz ve huzursuz olur.
- E) Yüzü gülmez.

Şu Dalma'dan geçtin mi?  
Soğuk sular içtin mi?  
Efelerin içinde  
Yörük Ali'yi seçtin mi?  
Hey gidinin efesi  
Efelerin efesi



**20. Verilen türkü aşağıdaki bölgelerimizden hangisine aittir?**

- A) Marmara Bölgesi
- B) Ege Bölgesi
- C) Doğu Anadolu Bölgesi
- D) Güneydoğu Anadolu Bölgesi
- E) Karadeniz Bölgesi

**21. Aşağıdaki icatlardan hangisi tarihin başlangıcı sayılmıştır?**

- A) Tekerlek
- B) Benzin
- C) Takvim
- D) Yazı
- E) Saat

**22. 1 Kasım 1922' de hangi olay gerçekleşmiştir?**

- A) Cumhuriyet kurulmuştur.
- B) Atatürk vefat etmiştir.
- C) Saltanat kaldırılmıştır.
- D) TBMM açılmıştır.
- E) Erzurum Kongresi yapılmıştır.



Türkiye Devleti, ülkesi ve milletiyle bölünmez bir bütündür.

I. Dili Türkçedir.

II. Bayrağı, şekli kanunlarda belirtilen, ay yıldızlı al bayraktır.

III. Milli Marşı "İstiklal Marşı" dır.

**23.Anayasada yer alan hükümlerden hangileri değiştirilemez ve değiştirilmesi teklif edilemez?**

- A) I, II ve III
- B) Yalnız I
- C) Yalnız II
- D) Yalnız III
- E) II ve III

Akdeniz ve Karadeniz bölgelerinde denizellik etkisi genelde kıyı şeridinde hissedilirken Ege Bölgesi'nde denizellik etkisi iç kesimlere kadar ulaşabilmektedir.

**24.Bu duruma etki eden faktör aşağıdakilerden hangisidir?**

- A) Yağış miktarı
- B) Nüfus yoğunluğu
- C) Ormanlık alanlar
- D) Dağların denizlere uzanış biçimleri
- E) İklim özellikleri

İklim	Karadeniz	Karasal	Akdeniz
Bitki Örtüsü	?	?	?

**25.Verilen tabloda soru işareti ile gösterilen yerlere sırasıyla aşağıdakilerden hangisi getirilmelidir?**

- A) Maki, bozkır, orman
- B) Bozkır, maki, orman
- C) Orman, maki, bozkır
- D) Maki, orman, bozkır
- E) Orman, bozkır, maki

**26. Türk ordu teşkilatının temeli olan " onluk sistem " hangi hükümdar tarafından kurulmuştur?**

- A) Atilla
- B) Teoman
- C) Bilge Kağan
- D) Tonyukuk
- E) Mete Han

**27. Aşağıdakilerden hangisi Mustafa Kemal'in bitirdiği okullardan biri değildir?**

- A) Mahalle Mektebi
- B) Şemsi Efendi İlkokulu
- C) Denizcilik Lisesi
- D) Selanik Askeri Rüştiyesi
- E) Manastır Askeri İdadisi

Millî Mücadele'ye çok önemli katkıları olan bir kahramandır.

Mücadele yıllarının zorluğunu anlattığı "Ateşten Gömlek" kitabı sayısız eserleri arasındadır.

**28. Bu bilgilerin aşağıdakilerden hangisine ait olduğu söylenebilir?**

- A) Halide Edip Adivar
- B) Turgut Uyar
- C) Cemal Süreyya
- D) Orhan Veli
- E) Falih Rıfkı Atay



Her birey istediğini düşünmek, istediğine inanmak, kendine özgü bir siyasal fikre sahip olmak, seçtiği dinin gereklerini yapmak veya yapmamak hak ve özgürlüğüne sahiptir. Vicdan özgürlüğü sınırsız ve tartışılmaz, bireyin doğal haklarının en önemlilerindedir. Bu hak böylece tanınmalıdır.

**29. Atatürk'ün bu düşüncesi ilkelerinden hangisi ile bağdaşmaktadır?**

- A) Cumhuriyetçilik
- B) Laiklik
- C) Halkçılık
- D) Milliyetçilik
- E) İnkılapçılık

**T.C. ANAYASASI**  
**Madde 42:**  
Herkes sağlıklı ve dengeli bir çevrede yaşama hakkına sahiptir.

**30. Anayasamızda yer alan bu maddeye göre devlet,**

- I. okullarda sağlık taraması yapılması,
- II. düzenli aşı kampanyaları düzenlenmesi,
- III. sağlık ocakları ve aile hekimliği kurulması

**uygulamalarından hangisi veya hangilerini gerçekleştirmekle yükümlüdür?**

- A) I ve II
- B) Yalnız I
- C) I ve III
- D) I, II ve III
- E) Yalnız III