



EKİNCİ ÖZEL EĞİTİM MESLEK OKULU

HATAY ANTAKYA

EKİNCİ ÖZEL EĞİTİM MESLEK OKULU

E-KPSS ORTAÖĞRETİM DENEME SINAVI

7

| | | | |
|---------------|--|----------------------|--|
| TC KİMLİK NO | | OKULU | |
| ADI SOYADI | | ADAY İMZA | |
| SALON/SIRA NO | | SALON GÖREVLİSİ İMZA | |

AÇIKLAMA

1. Bu kitapçıkta Genel Kültür ve Genel Yetenek testi bulunmaktadır.
2. Bu kitapçıkta iki test toplam 60 sorudan oluşmaktadır.
3. Bu kitapçıkta testlerde yer alan her sorunun sadece bir doğru yanıtı vardır. Bir soru için birden çok cevap yeri işaretlenmişse o soru yanlış işaretlenmiş sayılacaktır.
4. İşaretlediğiniz bir cevabı değiştirmek istediğinizde, silme işlemini çok iyi yapmanız gerektiğini unutmayınız.

Bu kitapçık özel eğitim öğrencilerinin E-KPSS çalışmalarına destek olmak amacıyla Ekinci Özel Eğitim Meslek Okulu Sınıf Öğretmeni **Özlem Yalçın** tarafından hazırlanmıştır.

GENEL YETENEK (30 SORU)

Evde kime bir şey gerekli olsa teyzemden isterdik. Aradığımız her şeyi onda bulurduk. Kumaş parçaları, renkli yünler, iplikler, düğmeler... Çünkü hiçbir şeyi atmaya kıyamazdı. Bunlar günün birinde işine yarardı.

1.Aşağıdakilerin hangisinden bu parçada söz edilmemiştir?

- A)Renkli Yünler B)Düğmeler
C)Kumaş parçaları D)Şişe kapakları
E)İplikler

2.Aşağıdaki cümlelerin hangisinde karşılaştırma vardır?

- A) Traktör yavaş gidiyor.
B) Uçaklar gökte süzülüyor.
C) Taksi dolmuştan daha hızlıydı.
D) Araba yolda arıza yaptı.
E) Basketbol topunu arabaya koydum.

Çam fidanları kurumadan bahçeye.....

3.Bu ifade aşağıdakilerden hangisiyle tamamlırsa anlamlı bir cümle oluşur ?

- A)atalım B)dikelim
C)sulayalım D)sökelim
E)keselim

4.Aşağıdakilerden hangisi sözlükte daha önce yer alır?

- A)atki B)eldiven C)bere
D)mont E)bot

- 1)Aramadığı
2)Beni
3)Üzöldüm
4)İçin

5.Yukarıdaki kelimelerden anlamlı ve kurallı bir cümle oluşturabilmek için kelimeler nasıl sıralanmalıdır?

- A)2-1-3-4 B)4-1-2-3 C)2-1-4-3
D)2-4-3-1 E)3-4-1-2

Bir zamanlar yemyeşil ovaları, tertemiz nehirleri olan bir kasabaydı burası. Kasaba halkı tarlaları ekmekten vazgeçti. O güzelim tarlalara yazlık evler yapıp turistlere kiraladılar. Zamanla ne yeşillik kaldı ne de tertemiz nehir.

6.Bu parçanın ana fikri aşağıdakilerden hangisidir?

- A)Tarlaları boş bırakmamalıyız.
B)Turistlere iyi davranmalıyız.
C)Elimizdeki kıymetini bilmeliyiz.
D)Daha çok ev yapmalıyız.
E)Nehirleri kurutmalıyız.

Sılanın çok güzel bir kupası varmış.

7.Aşağıdaki seçeneklerden hangisi yazım yanlışını göstermektedir?

- A)Sılanın B)güzel C)kupası
D)varmış E)çok

Evren, mahallede bisiklete biniyordu. Pazar günleri bisiklete binen Evren, sokakta bir kuş gördü. Kuşun kanadı yaralanmıştı. Kuşu bisikletin sepetine koyan Mert veterinerine gitti. Kuşun iyileşmesini sağladı.

(8. ve 9. Soruyu metne göre cevaplayınız.)

8.Hikayede anlatılan olay nerede ve ne zaman geçmektedir?

- A)Parkta-sabah vakti
- B)Evde-Cuma günü
- C)Mahallede-öğle vakti
- D)Evde-Salı günü
- E)Mahallede-Pazar günü

9.Evren bisiklete binerken ne gördü?

- A)Kedi
- B)Köpek
- C)Kuş
- D)Fare
- E)Karga

10.Aşağıdakilerden hangisi en çok hece sayısına sahiptir?

- A)UÇAK
- B)DÖRT
- C)KAPLUMBAĞA
- D)TAVŞAN
- E)ANTALYA

11.Aşağıdakilerden hangisinde eş anlamlı sözcükler bir arada kullanılmıştır?

- A)Bu konu hakkında az çok bir şeyler biliyorum.
- B)Helikopter gökyüzünde bir aşağı bir yukarı uçuyor
- C)Gece gündüz sıcaklık farkı çok fazla.
- D)Benden bir isteğiniz, dileğiniz var mı?
- E)Büyük küçük demeden tüm taşları topladık.

12.Aşağıdaki kelimelerden hangisi satır sonuna sığmadığında kısa çizgi (-) ile ayrılır?

- A)Türk
- B)Çiçek
- C)Dost
- D)Tek
- E)Kurt

Ordular()İlk hedefiniz Akdeniz'dir() ileri()

13.Yukarıdaki cümlede parantez ile gösterilen yerlere hangi noktalama işaretleri gelmelidir?

- A)(!)-(,)-(!)
- B)(.)-(.)-(!)
- C)(!)-(.)-(!)
- D)(?)-(,)-(.)
- E)(.)-(,)-(.)

14.Aşağıdaki cümlelerden hangisinin sonuna nokta (.) işareti gelir?

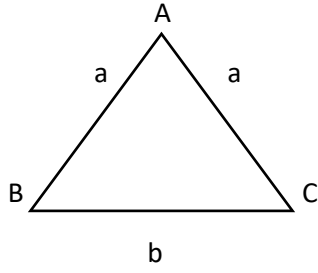
- A)Bugün hava çok güzel()
- B)Pazara gidecek misiniz()
- C)Gevezelik etme, dışarı çık()
- D)Kış meyveleri ;portakal, mandalina, elma()
- E)Toprak kaymasının zararları nedir()

Bu sınav daha önceki sınavın tıpkısının aynısıdır.

15.Yukarıdaki altı çizili sözcüklerden hangisini çıkartırsak anlatım bozukluğunu gidermiş oluruz?

- A)sınav
- B)önceki
- C)sınavın
- D)tıpkısının
- E)aynısıdır

16.



ABC ikizkenar üçgendir. IBCI kenar uzunluğu 6 cm dir.

ABC üçgeninin çevre uzunluğu 24 cm olduğuna göre IABI

kenar uzunluğu kaç cm dir?

A) 9

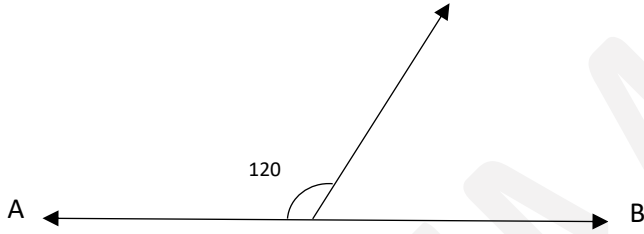
B) 6

C) 16

D) 18

E) 10

17.



AB doğru, $s(\widehat{adc}) = 120$ ise

$s(\widehat{CDB})$ kaç derecedir?

A) 90

B) 80

C) 60

D) 220

E) 40

18. $12,3 + 13,7$ işleminin sonucu kaçtır?

A) 42

B) 16

C) 160

D) 31

E) 20

19. Bir sayının 3 katının 10 eksiği 20dir. Bu sayı kaçtır?

A) 5

B) 9

C) 8

D) 10

E) 20

20. Her ders saati 40 dk. olan bir okulda dersler 09:00 da başlamaktadır. Bu okulda birinci ders saati kaçta bitmektedir?

A) 09:30

B) 08:40

C) 09:40

D) 09:45

E) 10:40

★ ve Δ birer tam sayı olmak üzere;

★ = 3 Δ = 2 eşitlikleriyle tanımlanıyor.

21. Buna göre $2\Delta + 5\star = ?$

- A) 5 B) 8 C) 21 D) 20 E) 19

22. 0, 1, 5 sayıları birer defa kullanılarak yazılabilecek en büyük üç basamaklı sayı ile en küçük yazılabilecek sayının farkı aşağıdakilerden hangisidir?

- A) 615 B) 495 C) 400 D) 405 E) 9

23. Bir sınıfta 42 tane öğrenci bulunmaktadır. Bu öğrencilerin $\frac{3}{7}$ si erkek öğrenci ise kız öğrenci sayısı kaçtır?

- A) 24 B) 26 C) 21 D) 28 E) 18

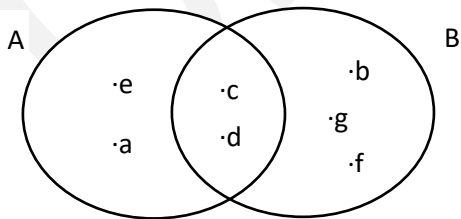
24. $\frac{2^5}{4^2}$ işleminin sonucu aşağıdaki seçeneklerden hangisidir?

- A) 12 B) 5 C) 10 D) 12 E) 2

25. Bir otobüs Hatay – Adana arasını 90 km/s hızla 2 saatte tamamlanmıştır. Hatay – Adana arası mesafe kaç km'dir?

- A) 200 B) 180 C) 90 D) 92 E) 88

26.



Yandaki gösterilen A ve B kümesine göre A-B kümesine göre A-B=?

(A fark B)

- A) A-B= {e,a}
B) A-B= {e,a,c,d}
C) A-B= {c,d}
D) A-B= {b,g,f}
E) A-B= {b,c}


27. $\frac{\sqrt{25}+\sqrt{9}}{\sqrt{4}}$ işleminin sonucu aşağıdakilerden hangisidir?

- A) 2 B) 5 C) 4 D) 10 E) 20


Ayşe akşamları saat 21:15'de uymaktadır.

28. Saat 21:15 aşağıdaki seçeneklerin hangisinde gösterilmektedir?


A)



B)




C)



D)



E)



29. Nil ve Asya'nın yaşları toplamı 12'dir. Nil 5 yaşında olduğuna göre Asya kaç yaşındadır?

- A) 3 B) 9 C) 10 D) 7 E) 13

| | | | |
|-------|--|------------|--|
| KEDİ | | KAPLUMBAĞA | |
| KÖPEK | | BALIK | |

30. Yukarıda ki grafikte her şekil bir hayvanı göstermektedir. Grafiğe göre toplam hayvan sayısı kaçtır?

- A) 10 B) 5 C) 14 D) 24 E) 3

GENEL KÜLTÜR TESTİ

(30 SORU)

1.Aşağıdaki milli bayramlar ve kutlandıkları tarih eşleştirmelerinden hangisi yanlıştır?

- A)**Ulusal Egemenlik ve Çocuk Bayramı- 23 Nisan
B)Zafer Bayramı- 30 Ağustos
C)Cumhuriyet Bayramı-29 Ekim
D)Atatürk'ü Anma Gençlik ve Spor Bayramı- 19 Mayıs
E)Cumhuriyet Bayramı-30 Ağustos

2.Aşağıdaki seçeneklerden hangisi parayı ilk bulan uygarlıktır?

- A)**Lidyalılar **B)**Sümerliler **C)**Artuklular
D)Uygurlar **E)**Göktürkler

3.Aşağıdaki şehirlerden hangisi ülkemizin başkentidir?

- A)**Konya **B)**Hatay **C)**Ankara
D)İzmir **E)**İstanbul

Hatay, Ankara, Niğde, İstanbul

4.Yukarıdaki yerleşim yerleri nasıl adlandırılmaktadır?

- A)**İlçe **B)**İl **C)**Köy
D)Kasaba **E)**Ülke

5.Mustafa Kemal Atatürk hangi şehirde hayata gözlerini yummuştur?

- A)**Ankara **B)**Hatay **C)**Konya
D)İzmir **E)**İstanbul

İstiklal Marşı'nın bestecisi.....dür.

6.Yukarıdaki ifade de boş bırakılan yere gelmesi gereken hangi isimdir?

- A)**Mehmet Akif Ersoy
B)Osman Zeki Üngör
C)Mustafa Kemal Atatürk
D)Kanuni Sultan Süleyman
E)Orhan Veli Kanık

Ela o gün erkenden kalktı. Temiz kıyafetlerini giyindi. Ailesinin ellerini öperek bayramlaştı. Bütün gün eve gelen misafirlerle bayramlaşıp kolonya şeker ikram etti.

7.Buna göre Ela aşağıdaki hangi bayramı kutlamış olabilir?

- A)**Zafer Bayramı
B)Ulusal Egemenlik ve Çocuk Bayramı
C)Ramazan Bayramı
D)Cumhuriyet Bayramı
E)Atatürk'ü Anma Gençlik ve Spor Bayramı

8.İstanbul şehrini fetih eden padişah aşağıdakilerden hangisidir?

- A)Yavuz Sultan Selim
- B)Kanuni Sultan Süleyman
- C)Abdülhamid
- D)Fatih Sultan Mehmet
- E)Osman Bey

9.İlk Türk devleti aşağıdakilerden hangisidir?

- A)Göktürkler
- B)Asya Hun İmparatorluğu
- C)Macarlar
- D)Uygurlar
- E)Artuklular

10.İlk Cumhurbaşkanımız aşağıdaki seçeneklerden hangisidir?

- A)Recep Tayyip Erdoğan
- B)İsmet İnönü
- C)Celal Bayar
- D)Ahmet Necdet Sezer
- E)Mustafa Kemal Atatürk

“Din ve ırk ayrımı gözetmeksizin, ulus tanımını vatandaşlık ve üst kimlik değerlerine dayandıran sivil milliyetçi bir vatanperverlik anlayışıdır”

11.Yukarıda tanımı yapılan ilke aşağıdakilerden hangisidir?

- A)Laiklik
- B)Milliyetçilik
- C)Halkçılık
- D)Cumhuriyetçilik
- E)İnkılapçılık

12.Türkiyenin en büyük yüzölçümüne sahip ili aşağıdakilerden hangisidir?

- A)Konya
- B)Hatay
- C)İstanbul
- D)Van
- E)Samsun

13.Hastanede görev yapan, tıp fakültesi mezunu olan ve reçeteye ilaç yazabilen kişi aşağıdakilerden hangi mesleğe mensuptur?

- A)Öğretmen
- B)Avukat
- C)Doktor
- D)Terzi
- E>Aşçı

14.Aşağıdakilerden hangisi sağlık işlerinden sorumlu bakanlıktır?

- A)İç İşleri Bakanlığı
- B)Milli Eğitim Bakanlığı
- C)Adalet Bakanlığı
- D)Sağlık Bakanlığı
- E)Kültür ve Turizm Bakanlığı

15.İlk ve orta okullar ile liseler 16 Mart 2020 tarihinde ne sebeple tatil edilmiştir?

- A)Korana virüs sebebiyle tatil edildi.
- B)Resmi tatil sebebiyle tatil edildi.
- C)Savaş sebebiyle tatil edildi.
- D)Okulların ilaçlanması sebebiyle tatil edildi.
- E)Deprem sebebiyle tatil edildi.

16.Aşağıdakilerden hangisi Akdeniz Bölgesine ait bir ilimizdir?

- A)Van B)Kars C)Hatay
D)Konya E)Rize

17.Aşağıdakilerden hangisi Türkiye Cumhuriyetinin komşularından değildir?

- A)Suriye B)Yunanistan C)Gürcistan
D)Kahramanmaraş E)İran

18.Aşağıdaki seçeneklerden hangisi çekirdek aileyi oluşturur?

- A)Anne-Baba-Dede
B)Anne-Baba-Çocuk
C)Anne-Baba-Hala
D)Anne-Baba-Anneanne
E)Anne-Teyze-Dede

19.Yer altındaki fay hatlarının yerinden oynamasıyla yer yüzünde oluşan sarsıntıya..... denir?

- A)Sel B)Çığ C)Erezyon
D)Deprem E)Yangın

20.İnsanlar eskiden ön adlarının yanında dini, sosyal ve ailevi unvanlar taşırlarmış. Örneğin; Ali Rıza Efendi, Halide Hanım, Zühtü Ağa, Kazım Paşa..... Olumlu olumsuz ayrımcılığı kaldırmak ve nüfus işlemleri, askere alma, okul kaydı, tapu işlemleri gibi alanlarda yaşanan karışıklıkları gidermek için hangi kanun çıkartılmıştır?

- A)Soyadı Kanunu
B)Kılık Kıyafet Kanunu
C)Türk Medeni Kanunu
D)Ticaret Kanunu
E)Ceza Mahkemesi Kanunu

21."Ani Harabeleri" hangi ilimizdedir?

- A)Kars B)Hatay C)Antalya
D)Van E)Konya

22.Dört mevsim yağış alan bölgemiz aşağıdakilerden hangi bölgedir?

- A)Güney Doğu Anadolu bölgesi
B)Karadeniz Bölgesi
C)Doğu Anadolu Bölgesi
D)İç Anadolu Bölgesi
E)Ege Bölgesi

23.Yazları sıcak ve kurak, kışları sert ve kar yağışlı geçen iklim aşağıdakilerden hangisidir?

- A)Akdeniz İklimi B)Karadeniz İklimi
C)Muson İklimi D)Çöl İklimi
E)Karasal İklim

24.Yıldırım düşmesi sonucunda veya pikniğe gelen insanların yaktıkları ateşi tam söndürmemesi sonucunda aşağıdakilerden hangisi olur?

- A)Deprem B)Çiğ C)Orman Yangını
D)Sel E)Toprak Kayması

HAVA –BESİN—SU—EV—OYUN—SEVGİ
25.Canlılar yaşamlarını sürdürmek için yukarıdakilerden kaç tanesine ihtiyaç duyarlar?

- A)3 B)4 C)1 D)5 E)6

26.Yapmış olduğu camiler, köprüler, hanlar ile toplumun saygısını kazanmış kişi aşağıdakilerden hangi seçenekte verilmiş?

- A)Mevlana B)Mimar Sinan
C)Mehmet Akif Ersoy D)Piri Reis
E)Kanuni Sultan Süleyman

27.İlk kadın pilotumuz kimdir?

- A)Halide Edip Adıvar B)Ferhunde Erkin
C)Sabiha Gökçen D)Fatma Refet
E)Safiye Ali

28.Türkiyenin en yüksek dağı aşağıdakilerden hangisidir?

- A)Ağrı Dağı B)Kızıldağ C)Canik
D)Yıldız Dağları E)Ilgaz Dağı

29.Bir yıl kaç gündür oluşur?

- A)500 B)56 C)48
D)360 E)250

“Başkalarının kusurunu örtmede gece gibi ol”

30.Şeb-i Arus hangi şehirde ve kimi anmak için yapılır?

- A)İbn Sina-Ankara
B)Mevlana Celaleddin Rumi- Konya
C)Farabi-Mardin
D)Yunus Emre-Sivas
E)Gazali-Eskişehir

SINAVINIZ BİTTİ.

KONTROL EDİNİZ.