



EKİNCİ ÖZEL EĞİTİM MESLEK OKULU

HATAY ANTAKYA

EKİNCİ ÖZEL EĞİTİM MESLEK OKULU

E-KPSS ORTAÖĞRETİM DENEME SINAVI

6

TC KİMLİK NO		OKULU	
ADI SOYADI		ADAY İMZA	
SALON/SIRA NO		SALON GÖREVLİSİ İMZA	

AÇIKLAMA

1. Bu kitapçıkta Genel Kültür ve Genel Yetenek testi bulunmaktadır.
2. Bu kitapçıkta iki test toplam 60 sorudan oluşmaktadır.
3. Bu kitapçıkta testlerde yer alan her sorunun sadece bir doğru yanıtı vardır. Bir soru için birden çok cevap yeri işaretlenmişse o soru yanlış işaretlenmiş sayılacaktır.
4. İşaretlediğiniz bir cevabı değiştirmek istediğinizde, silme işlemini çok iyi yapmanız gerektiğini unutmayınız.

Bu kitapçık özel eğitim öğrencilerinin E-KPSS çalışmalarına destek olmak amacıyla Ekinci Özel Eğitim Meslek Okulu Sınıf Öğretmeni **Merve Akçay** tarafından hazırlanmıştır.

GENEL YETENEK TESTİ
(30 SORU)

1. "Birini uzun süre istekle ve hasretle beklemek." anlamında kullanılan deyim aşağıdakilerden hangisidir?
- A) Göz boyamak
B) Gözü yolda kalmak
C) Göz gözü görmemek
D) Gözü kaymak
E) Gözden kaybolmak
2. Aşağıdakilerden hangisinde çoğul bir ad kullanılmıştır?
- A) Otobanda **arabalar** aşırı süratli gidiyor.
B) Sadece bu **lamba** iyi aydınlatıyor.
C) Atalarımız **ev** alma komşu al derler.
D) Çaycı eline ondan fazla **bardak** aldı.
E) **Bilgisayar** çağımızın iletişim aracıdır.
3. Aşağıdaki cümlelerden hangisinin sonuna farklı bir noktalama işareti getirilmelidir?
- A) Saatler geçtikçe yollara sessizlik çöküyordu
B) Son zamanların en büyük savaşı başladı mı
C) Bir köşeye çekilip sessiz sessiz ağlıyordu
D) Bu söylediklerinizi unutmamaya çalışacağım
E) Onunla yarın akşam buluşacağız
4. Aşağıdaki cümlelerin hangisinde yanında verilen sorunun cevabı yoktur?
- A) Bu ayın 15'inde tatile çıkmayı düşünüyorum. (Ne zaman?)
B) Sena yeni aldığı çantasını bulamadı. (Kim?)
C) Yardımsever olduğu için çok seviliyor. (Neden?)
D) Okula yürüyerek gidiyorum. (Nasıl?)
E) Yarın kitap okuyacağız. (Nerede?)

İlk kez 1915'te aylık bir dergide yayımlanan Dönüşüm adlı kitap, Franz Kafka'nın en uzun ve en tanınmış öyküsüdür.

5. Bu parçada bahsedilen kitapla ilgili aşağıdakilerden hangisine değinilmemiştir?

- A) İlk kez hangi yıl yayımlandığına
- B) Kitabı kimin yazdığına
- C) Yayımlandığı derginin ismine
- D) Kitabın türüne
- E) Kitabın adına



6. Yukarıdaki kelimelerden hangisinin eş anlamlısı aşağıdaki seçeneklerde yoktur?

- A) Fakir
- B) Sözcük
- C) Olanak
- D) Sınav
- E) Yanıt

Yok etmek sadece zorbalara ve cahillere işidir. Bir insan zekasıyla yenemeyeceğini anladığı anda ya şiddete başvurur ya da paranın gücüne. Birisi sizinle aynı fikirde değil diye onu yok edemezsiniz ----.

7. Bu parçanın sonuna düşüncenin akışına göre, aşağıdakilerden hangisi getirilmelidir?

- A) Bilginin gücüne inanan her insan sadece konuşma yolunu seçer.
- B) İnsanlar haklı çıkabilmek için kavga etmelidir.
- C) Bilgimizin yetersiz kaldığı zamanlarda şiddete başvurabiliriz.
- D) Yoksul bir kimse zengin birine karşı gelmemelidir.
- E) Ahlak sahibi insanlar her zaman karşıdakini suçlarlar.

8.Aşağıdaki cümlelerden hangisinde mecaz anlamlı bir sözcük kullanılmıştır?

- A) Yoldaki çamurlar üzerine bulaşmıştı.
- B) Ahmet, bu ailenin en köklü ağacıdır.
- C) Mavi renk elbisesi ile dikkat çekiyordu.
- D) Hava güzel olursa pikniğe gideceğiz.
- E) Mahallemize okul yapılacakmış.

- 1.gidemedim
- 2.sinemaya
- 3.kaybettiğim
- 4.için
- 5.biletim

9.Yukarıdaki sözcüklerle kurallı bir cümle oluşturulduğunda kaç numaralı sözcük cümlenin sonuna gelmelidir?

- A)1
- B)2
- C)3
- D)4
- E)5

Kırlangıçlar, kutuplar hariç dünyanın her tarafında yaşayabilen, sinek avlayarak geçinen, küçük, ötücü kuşlardır. Boyları 10-23 cm arasında değişir. Çoğunun karnı beyaz; baş, kuyruk ve kanatları siyahtır. Alın ve gerdanı kahverengi parlak tüylüdür.

10.Parçaya göre aşağıdakilerden hangisi kırlangıçların özelliklerinden biri değildir?

- A) Sinek avlarlar.
- B) Küçük kuşlardır.
- C) Kar yağın yerlerde yaşarlar.
- D) Çoğunun karnı beyaz renklidir.
- E) Ötücü kuşlardır.

İnsan bu su misali kıvrım kıvrım akar ya

Bir yanda akan benim öbür yanda sakarya

11.Yukarıdaki dizelerde altı çizili sözcüklerden hangisinin yazımı yanlıştır?

- A) İnsan
- B) su
- C) kıvrım
- D) akan
- E) Sakarya

-Fen bilgisi öğretmeni Merve Hanım öğrencilerinden Hasan ve Ali'ye birer tane bitki tohumu vermiştir. Öğrencileri bu tohumları toprağa ekmiş ve yetiştirmiştir.

-Hasan'ın ekip yetiştirdiği tohumdan; Yaprakları büyük ve kırmızı, sapı yeşil ve üzerinde dikenleri olan bir gül meydana gelmiştir.

-Ali'nin ekip yetiştirdiği tohumdan; Yaprakları küçük ve beyaz, sapı yeşil ve üzerinde tüyleri olan bir papatya meydana gelmiştir.

12. Bu metne göre Hasan ve Ali'nin yetiştirdiği bitkilerin ortak özelliği aşağıdakilerden hangisidir?

- A) Yaprakların büyüklüğü
- B) Yaprakların rengi
- C) Yaprak sayıları
- D) Saplarının rengi
- E) Saplarının üzerindeki doku

13. Aşağıdaki kelimelerden hangisi hecelerine doğru şekilde ayrılmıştır?

- A) pat-a-tes
- B) pa-tlı-can
- C) por-ta-kal
- D) dom-at-es
- E) bi-be-r

(I) Benim adım Nisa. (II) Babamın evcil hayvan satan bir işyeri var. (III) Bazen babamla birlikte işyerine gider oradaki hayvanları incelerim. (IV) Güzel sesli kuşlar, rengarenk süs balıkları, küçücük gözleri olan kaplumbağalarla vakit geçiririm. (V) Bu hayvanların küçücük kafeslerde ve camdan akvaryumlarda yaşıyor olması beni hep üzer. Onların da diğer hayvanlar gibi özgürce uçmalarını, yüzmelerini hayal ederim. (14. ve 15. Soruları yukarıdaki parçaya göre cevaplayınız.)

14. Bu parçada numaralanmış cümlelerden hangisinde yakınma (üzüntü) söz konusudur?

- A) I
- B) II
- C) III
- D) IV
- E) V

15. Bu parçayla ilgili olarak aşağıdakilerden hangisine ulaşamaz?

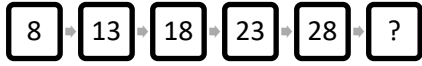
- A) Bazı evcil hayvanlar kafeslerde yaşar.
- B) Bazı hayvanlar akvaryumlarda yaşar.
- C) Evcil hayvan satılan yerlerde kuşlar da vardır.
- D) Evcil hayvan satılan yerler kötü kokar.
- E) Evcil hayvan satılan yerlerde süs balıkları da vardır.

16. $\frac{9-3}{2}$ işleminin sonucu kaçtır?

- A) 2 B) 3 C) 4 D) 5 E) 6

17. Bir dikdörtgenin kenar ve köşe sayıları toplamı kaçtır?

- A) 4 B) 6 C) 8 D) 10 E) 12



18. Yukarıdaki örüntüde "?" yerine aşağıdakilerden hangisi gelmelidir?

- A)30 B)33 C)38 D)43 E)48

19. $\frac{24}{2,5 + 0,5}$ işleminin sonucu kaçtır?

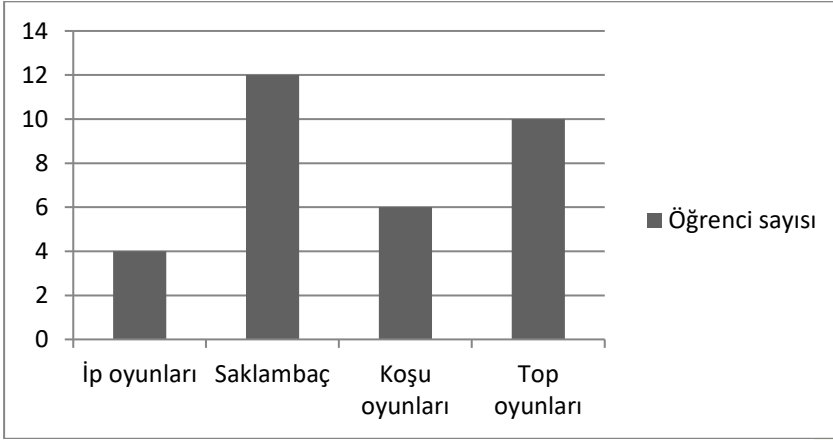
- A) 4 B) 6 C) 8 D) 10 E) 12

20. Elif'in babası 48 yaşındadır. Elif ve babasının yaşları toplamı 57 olduğuna göre Elif kaç yaşındadır?

- A) 5 B) 7 C) 9 D) 12 E) 16

21 ve 22. Soruları grafiğe göre cevaplayınız.

Aşağıdaki grafik, 10-C sınıfındaki öğrencilerin en çok sevdiği oyun çeşitlerini göstermektedir.



21. Bu grafiğe göre, saklambaç ve koşu oyunlarını seven toplam kaç öğrenci vardır?

- A) 18 B) 19 C) 22 D) 24 E) 26

22. Grafiğe göre 10-C sınıfında toplam kaç öğrenci vardır?

- A) 20 B) 25 C) 29 D) 30 E) 32

- | | |
|---------|-------------|
| 1. Adım | I I |
| 2. Adım | I I I I |
| 3. Adım | I I I I I I |
| 4. Adım | ? |

23. Yukarıdaki örüntüde 4. Adımdaki şekil aşağıdakilerden hangisi olmalıdır?

- A) I
B) I I I
C) I I I I
D) I I I I I I
E) I I I I I I I I

24. Eymen saat 21.30 da uyumuştur. Saat 07.00' da uyandığına göre kaç saat uyumuştur?

- A) 6 saat 10 dakika
- B) 7 saat 05 dakika
- C) 8 saat 20 dakika
- D) 9 saat 30 dakika
- E) 11 saat 50 dakika

* 3.50 cm * 60 cm * 1.68 cm * 30 cm

25. Yukarıdaki ölçümlerle ilgili olarak aşağıdakilerden hangisi yanlıştır?

- A) 30 cm hepsinden kısadır.
- B) 1.68 cm , 60 cm'den daha uzundur.
- C) 3.50 cm , 30 cm'den daha kısadır.
- D) 60 cm 30 cm'den uzundur.
- E) 3.50 cm hepsinden uzundur.

26. %50 indirimle 125 TL'ye alınan bir ceketin indirimden önceki fiyatı kaç TL'dir?

- A) 250
- B) 285
- C) 300
- D) 158
- E) 125

27. Bir bakkal elindeki 80 kg pirinci 4 kg'lık poşetlere koymuştur. Poşetlerin tanesini 12 TL'ye sattığına göre toplam kaç TL kazanmıştır?

- A) 120
- B) 160
- C) 240
- D) 280
- E) 390


$$(3 \times 8 - 8) + 9 = ?$$

28. Yukarıdaki işlemin sonucu kaçtır?

- A) 15
- B) 25
- C) 28
- D) 30
- E) 35

29. $\frac{4^2 - 2^3}{2}$ işleminin sonucu kaçtır?

- A)4
- B)6
- C)8
- D)10
- E)12



30. Yukarıda gösterilen saatin öğleden sonraki okunuşu kaçtır?

- A) 13.00
- B) 17.30
- C) 18.45
- D) 20.00
- E) 21.00

GENEL KÜLTÜR

1. Türk tarihinde kağıt ve matbaayı kullanan ilk Türk devleti aşağıdakilerden hangisidir?

- A) Uygurlar
- B) Göktürkler
- C) Avrupa Hunları
- D) Bulgarlar
- E) Hazarlar

2. Aşağıdakilerden hangisi I. Dünya Savaşında Osmanlı Devletinin savaştığı cephelerden değildir?

- A) Kafkas
- B) Irak
- C) Çanakkale
- D) Hicaz-Yemen
- E) Akdeniz

3. İlk çağın kapanıp orta çağın başlaması hangi gelişme sonucunda yaşanmıştır?

- A) Kavimler Göçü
- B) Çanakkale Savaşı
- C) Haçlı Seferleri
- D) Reform hareketlerinin başlaması
- E) İstanbul'un Fethi

4. Aşağıdakilerden hangisi Atatürk ilkelerinden biri değildir?

- A) Cumhuriyetçilik
- B) Halkçılık
- C) Devletçilik
- D) İslamcılık
- E) Milliyetçilik

- I. İlk üç haçlı seferi İslam dünyası üzerine yapılmıştır.
II. Dördüncü haçlı seferi İstanbul (Bizans) üzerine yapılmıştır
III. Haçlı seferleri Avrupa'da köklü değişikliklere yol açmıştır.

5.Haçlı seferleri ile ilgili verilen bilgilerden hangileri doğrudur?

- A) Yalnız I
B) Yalnız II
C) II ve III
D) I ve III
E) I, II ve III

6.Günümüzde kullanılan alfabe aşağıdakilerden hangisidir?

- A) Orhun
B) Arap
C) Latin
D) Uygur
E) Kiril

7. Türk adının geçtiği ilk yazılı belge aşağıdakilerden hangisidir?

- A) Bugut yazıtları
B) Orhun Yazıtları
C) Yenisey Yazıtları
D) Manas Destanı
E) Oğuz Kağan Destanı

8.1453 yılında İstanbul'u fetheden padişah kimdir?

- A) Yavuz Sultan Selim
B) Kanuni Sultan Süleyman
C) I. Mahmut
D) III. Selim
E) Fatih Sultan Mehmet

9.Aşağıdakilerden hangisi Osmanlı Devletine başkentlik yapmamıştır?

- A) İstanbul
B) Bilecik
C) Edirne
D) Malatya
E) Bursa

10.Aşağıdakilerden hangisi TBMM'nin kuruluş amaçlarından değildir?

- A) Ulusal birliği sağlamak
- B) Milli ve bağımsız bir devlet kurmak
- C) Ulusal bağımsızlığı sağlamak
- D) Başka ülkelere bağımlı olmak
- E) Vatani işgalden kurtarmak

11.Günümüzdeki hastanelerin adı aşağıdakilerden hangisidir?

- A) Darüşşifa
- B) Kervansaray
- C) Külliye
- D) Medrese
- E) Tersane

12.' Benim naçiz vücudum elbet bir gün toprak olacaktır, ancak Türkiye Cumhuriyeti ilelebet payidar kalacaktır." sözü aşağıdakilerden hangisine aittir?

- A) Mustafa Kemal Atatürk
- B) Mehmet Akif Ersoy
- C) Nazım Hikmet
- D) Necip Fazıl Kısakürek
- E) Halide Edip Adıvar

13.Bir caminin etrafında sosyal ihtiyaçları gidermek için yapılan yapı aşağıdakilerden hangidir?

- A) Gözlemevi
- B) Medrese
- C) Külliye
- D) Şifahane
- E) Tersane

14.Medeni Kanun hangi ülkeden alınmıştır?

- A) Almanya
- B) İsviçre
- C) İtalya
- D) Fransa
- E) Macaristan

15.Aşağıdakilerden hangisi laik devlet unsurlarından değildir?

- A) Resmi bir devlet dininin bulunmaması
- B) Din ve mezhep ayrımı yapılmaması
- C) Devletin din kurallarına göre yönetilmesi
- D) Din hizmetlerinin de bir kamu hizmeti olarak kabul edilmesi
- E) Din ve devlet kurumlarının birbirinden ayrılmış olması

16.Osmanlı'da ilk mizah dergisi aşağıdakilerden hangisidir?

- A) Takvim-i Vakayi
- B) Tercüman-ı Ahval
- C) Mecmua-i Fünun
- D) Bahçe
- E) Diyojen

- I. Selanik Mahalle Mektebi
- II. Manastır Askeri İdadisi
- III. İstanbul Harp Akademisi

17.Mustafa Kemal Atatürk yukarıdaki okullardan hangilerinde okumuştur?

- A) Yalnız I
- B) I ve II
- C) Yalnız III
- D) II ve III
- E) I, II, III

18.Herkesin kanun önünde eşit olması ve kimseye ayrıcalık tanınmaması aşağıdaki ilkelerden hangisiyle ilgilidir?

- A) Devletçilik
- B) Halkçılık
- C)Devletçilik
- D)Cumhuriyetçilik
- E) İnkılapçılık

19.Doğal bitki örtüsünden yoksun engebeli yörelerde kar örtüsünün eğim yönünde hareket etmesiyle oluşan doğal afet aşağıdakilerden hangisidir?

- A) Deprem
- B) Çığ
- C) Erozyon
- D) Sel
- E) Heyelan

20.Aşağıdaki şehirlerin hangisinde boğaz vardır?

- A) Çorum
- B) Ankara
- C) Erzincan
- D) İstanbul
- E) Trabzon

21.Aşağıdakilerden hangisi Türkiye'deki denizlerden biri değildir?

- A) Akdeniz
- B) Karadeniz
- C) Güney Çin Denizi
- D) Ege Denizi
- E) Marmara Denizi

22.Türkiye'nin en fazla yağış alan bölgesi aşağıdakilerden hangisidir?

- A) Güneydoğu Anadolu Bölgesi
- B) Akdeniz Bölgesi
- C) İç Anadolu Bölgesi
- D) Ege Bölgesi
- E) Karadeniz Bölgesi

23.Aşağıdakilerden hangisi dış göçe örnek verilebilir?

- A) Arda'nın gezmek için Hatay'dan Çanakkale'ye gitmesi.
- B) Esra'nın köyünden Ankara'ya taşınması.
- C) Aleyna'nın okul için İzmir'e gitmesi.
- D) Mustafa'nın çalışmak için Almanya'ya gitmesi.
- E) Yusuf'un dedesini ziyaret etmek için köyüne gitmesi.

24.Türkiye'nin en uzun kara sınırı bulunan komşusu aşağıdakilerden hangisidir?

- A) Nahçıvan
- B) Suriye
- C) Gürcistan
- D) Bulgaristan
- E) İran

25.Türkiye'nin en büyük gölü aşağıdakilerden hangisidir?

- A) Beyşehir Gölü
- B) Tuz Gölü
- C) Van Gölü
- D) Marmara Gölü
- E) Bafa Gölü

26.Aşağıdakilerden hangisi kış turizmi yapılan şehirlerden biridir?

- A) Erzurum
- B) Antalya
- C) Nevşehir
- D) Şanlıurfa
- E) Muğla

27.Kanunun suç işleyen kişiye uygulanmasını öngördüğü yaptırım nedir?

- A) Tazminat
- B) Ceza
- C) İptal
- D) Hükümsüzlük
- E) Cebri icra

28.Türkiye'de 2021 yılı itibariyle tüm acil yardım numaraları hangi numara altında birleştirilmiştir?

- A) 155 B)112 C)110 D)156 E)188

29.Türkiye'nin ilk kadın savaş pilotu kimdir?

- A) Jale İnan
- B) Sabiha Gökçen
- C) Süreyya Ağaoğlu
- D) Safiye Ali
- E) Tansu Çiller

30.Bakü hangi ülkenin başkentidir?

- A) Azerbaycan B)İtalya C)Türkiye D)Almanya E)Fransa

SINAVINIZ BİTTİ. KONTROL EDİNİZ.