



**EKİNCİ
ÖZEL EĞİTİM
MESLEK OKULU**
HATAY ANTAKYA

**EKİNCİ ÖZEL EĞİTİM MESLEK
OKULU**

E-KPSS ORTAÖĞRETİM DENEME SINAVI

2

TC KİMLİK NO		OKULU	
ADI SOYADI		ADAY İMZA	
SALON/SIRA NO		SALON GÖREVLİSİ İMZA	

AÇIKLAMA

1. Bu kitapçıkta Genel Kültür ve Genel Yetenek testi bulunmaktadır.
2. Bu kitapçıkta iki test toplam 60 sorudan oluşmaktadır.
3. Bu kitapçıkta testlerde yer alan her sorunun sadece bir doğru yanıtı vardır. Bir soru için birden çok cevap yeri işaretlenmişse o soru yanlış işaretlenmiş sayılacaktır.
4. İşaretlediğiniz bir cevabı değiştirmek istediğinizde, silme işlemini çok iyi yapmanız gerektiğini unutmayınız.

*Bu kitapçık özel eğitim öğrencilerinin E-KPSS çalışmalarına destek olmak amacıyla Ekinci Özel Eğitim Meslek Okulu Sınıf Öğretmeni **Osman Malik KÖSE** tarafından hazırlanmıştır.*

GENEL YETENEK TESTİ (30 SORU)

1) Aşağıdaki sözcükler alfabetik olarak sıralandığında hangisi sonda yer alır?

- A)Kedi B)Kaplan C)Kuş
D)Köpek E)Kırlangıç

2) Görev-Vazife arasındaki anlam ilişkisi aşağıdakilerden hangisinde vardır?

- A)Uzun-Kısa
B)Şişman-Zayıf
C)Pahalı-Ucuz
D)İhtiyar-Yaşlı
E)Hızlı-Yavaş

3) 'Kır' sözcüğü aşağıdaki cümlelerin hangisinde farklı anlamda kullanılmıştır?

- A)Yere düşen bardak kırıldı.
B)Ayşe'nin bana neden kırıldığını anlamadım.
C)Elif'in kolu kırılmış.
D)Bu kırılan beşinci vazo oldu.
E)Yere düşen gözlük kırıldı.

4) Aşağıdaki sözcüklerin hangisinin hece sayısı diğerlerinden farklıdır?

- A)Ayı B)Bardak C)Tarla
D)Bebek E)Pırlanta

Çalışmalıyız-olmak-başarılı-bir-için-çok

5) Yukarıdaki sözcüklerle anlamlı bir cümle oluşturulduğunda hangi sözcük boşa kalır?

- A)Bir B)Başarılı C)Çok
D)İçin E)Olmak

6) 'Onu görünce içim içime sığmıyor' diyen birisi hangi duygu içiresindedir?

- A)Hüzünlü B)Karamsar C)Heyecanlı
D)Kıskanç E)Yardımsever

7) Aşağıdaki cümlelerin hangisinde noktalama işareti yanlış kullanılmıştır?

- A)Ali'yi görünce çok mutlu oldum.
B)Eyvah ormanlar yanıyor !
C)Onu görünce ne hissediyorsun.
D)Oraya gelirse seni ...
E)Bahar gelince memlekete gider miyiz?

8) Aşağıdaki cümlelerin hangisinde özel isim vardır?

- A)Ablam teyzemlere gitmiş.
B)Karabaş bugün çok mutlu.
C)Köyümüze askerler geldi.
D)Buralar baharda cennet gibi olur.
E)Onu buralarda görmeyeli aylar oldu.

9) Aşağıdaki cümlelerin hangisinde sebep-sonuç ilişkisi vardır?

- A)Buraya geldiğini annemden öğrendim.
B)Terli terli su içince hasta oldu.
C)Soğuk havalarda kalın giyinmeliyiz.
D)Seni görmek için buraya geldim.
E)Annemin yaptığı kekler çok güzel olur

10) 'Sarı' sözcüğü aşağıdaki hangi şıkta sıfat görevinde kullanılmamıştır?

- A) Sarı kapı
- B) Sarı eldiven
- C) Sarı kedi
- D) Altın sarısı
- E) Sarı kazak

Ormanın birinde 25 yaşında büyük bir karga yaşıyordu. Evini yüksekçe bir dağa kurmuştu. Oradan ovayı izliyor, gelen gidene bakıyordu. Bir gün ormanda yangın çıktı ve karga çok sevdiği evini terk etmek zorunda kaldı.

11) Yukarıdaki parçada karga ile ilgili olarak hangisine değinilmemiştir?

- A) Ormanda yaşayan tek karga olduğuna
- B) Kaç yaşında olduğuna
- C) Evinin nerde olduğuna
- D) Ormanı neden terk ettiğine
- E) Ormandaki evinde ne yaptığına

Başarılı olmak için

12) Yukarıdaki cümlede noktalı yere aşağıdakilerden hangisi gelirse anlamsız olur?

- A) Düzenli çalışmalıyız.
- B) Derslerimizi dikkatli dinlemeliyiz.
- C) Kalın giyinmeliyiz.
- D) Ödevlerimizi yapmalıyız.
- E) Programlı çalışmalıyız.

Daha güzel bir dünya için etrafımızdaki insanlara bakmalı, yaşlıların poşetini taşımaları, sokak hayvanlarına su vermeli, küçük bir çocuğun çantasını taşımamız. Bu şekilde duyarlı insanlar arttıkça dünyamız daha yaşanılabilir bir yer olacaktır.

13) Yukarıdaki parçada neyin önemi vurgulanmaktadır?

- A) Çevre temizliğinin
- B) Çalışkan olmanın
- C) Dürüst olmanın
- D) Empati yapmanın
- E) Yardımlaşmanın

Bahtiyar Amca bahçesindeki tavukların, kedisinin, köpeğinin ve son olarak atı Düldül'ün yemini verir sonra evinde kahvesini içerdi. Uzun zaman önce eşi vefat ettiği için yalnızlığını hayvanlarıyla geçirmeye çalışıyordu.

(14 ve 15. Soruyu bu parçaya göre cevaplayın)

14) Bahtiyar Amcanın bahçesinde hangi hayvan yoktur?

- A) At
- B) Eşek
- C) Köpek
- D) Kedi
- E) Tavuk

15) Bahtiyar Amca'yla ilgili aşağıdaki sorulardan hangisinin cevabı vardır?

- A) Kaç yaşında olduğunun
- B) Ne yemekten hoşlandığının
- C) Eşinin yaşayıp yaşamadığının
- D) Köpeğinin isminin ne olduğunun
- E) Mesleğinin ne olduğunun

16) 120 gömleğin $\frac{5}{6}$ 'sı satılmıştır.
Satılan gömlekler kaç adettir?

- A)70 B)80 C)90
D)100 E)110

2-6-10-?-18-?

17) Yukarıdaki sayı örüntüsünde ?
yerlerine gelmesi gereken sayıların
toplamı kaçtır?


- A)36 B)38 C)40
D)42 E)44

A:{1,2,3,4,5,6,}

B:{0,2,4,6,8}

18) $A \cap B$ kümesi kaç elemanlıdır?

- A)1 B)2 C)3
D)4 E)5



19) Yukarıdaki saate bakıldığında kaç
dakika sonra saat 06:00 olacaktır?

- A)5 dakika B)10 dakika C)15 dakika
D)20 dakika E)25 dakika



20) Yukarıdaki grafiğe göre en çok
olan ağaç ile en az olan ağacın farkı
kaçtır?

- A)2 B)3 C)4
D)5 E)6

21) Dedemin bahçesinde 2 köpek ve
4 tavuk vardır. Bahçedeki
hayvanların toplam ayak sayısı
kaçtır?

- A)16 B)17 C)18
D)19 E)20

22) Malik cebindeki 50 tl ile markete
gitmiş,20 tl ile kalem ve 5 t ile defter
almıştır.Malik'in ne kadarı kalmıştır?

- A)20 B)25 C)30
D)35 E)40

23) $(5^2+3^3)-2^2 =$ işleminin sonucu
kaçtır?

- A)48 B)49 C)50
D)51 E)52

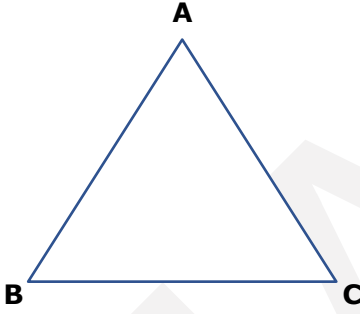
24) 5 sayısının 4 katının ,2 eksiğinin
yarısı kaçtır?

- A)6 B)7 C)8
D)9 E)10

$$\frac{5}{4} + \frac{2}{8} = \text{---}$$

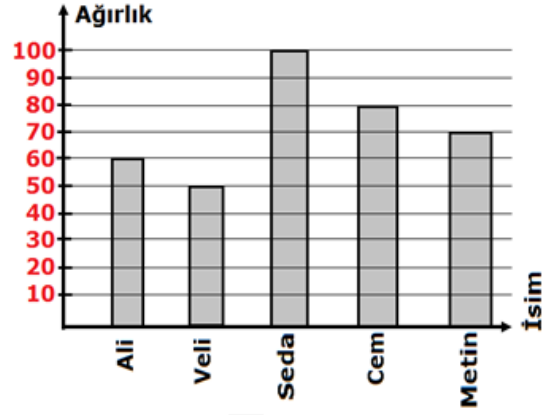
25) Yukarıdaki işlemin sonucu kaçtır?

- A)7/8
- B)5/8
- C)10/8
- D)8/8
- E)12/8



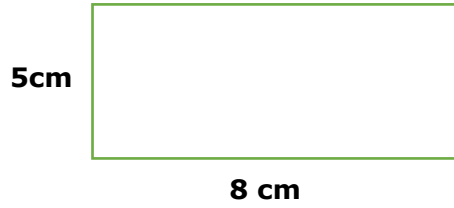
26) Yukarıdaki eşkenar üçgenin çevre uzunluğu 18 cm dir.Buna göre [AB] kenarının uzunlu kaç cm'dir?

- A)3 cm
- B)4 cm
- C)5cm
- D)6 cm
- E)7 cm






27)Yukarıda verilenler göre aşağıdakilerden hangisine ulaşamaz?

- A) Sınıfın en zayıfı Veli'dir.
- B) Ali Veli'den 10 kg daha ağırdır.
- C) Sınıfın en ağır bir kız öğrencidir.
- D)Metin,Seda'dan daha uzundur.
- E)Seda,Cem'den 20 kg daha ağırdır.



28) Yukarıda verilen dikdörtgen şeklindeki tarlanın etrafına çit çekilecektir.Kaç cm çite ihtiyaç vardır?

- A)26
- B)28
- C)30
- D)32
- E)34

 = 5  = 3  = 4

29) Yukarıda verilen sembollere göre aşağıdaki işlemlerden hangisi doğrudur?

A)  +  = 8

B)  +  = 8

C)  +  = 6

D)  ×  = 14

E)  ×  = 10

Muz: 8 TL

Elma: 2,50 TL

Erik: 3,50 TL

30) Pazara giden Malik 2 kg muz, 2 kg elma ve 1 kg erik alıyor. Malik pazarda ne kadar harcamıştır?

A) 24,00

B) 24,50

C) 25,00

D) 25,50

E) 26,00

GENEL YETENEK TESTİ BİTTİ

GENEL KÜLTÜR TESTİ (30 SORU)

1) İlk Türk Devletleri'nin kuruldukları yer neresidir?

- A) Anadolu
- B) Afrika
- C) Orta Asya
- D) Avrupa
- E) Avusturalya

2) Hangisi ilk Türklerin özelliklerinden biri değildir?

- A) Göçebe olmaları
- B) Hayvancılıkla uğraşmaları
- C) Savaşçı olmaları
- D) Hayvan derilerini işlemeleri
- E) Resim yapmaları

3) Hangisi Türklerin tarih boyunca uğraştığı işlerden biri değildir?

- A) Demircilik
- B) Halı-kilim dokuma
- C) Deri işleme
- D) Mozaik yapma
- E) Hayvan yetiştirme

4) Aşağıdakilerden hangisi Osmanlı Devleti'nin hükmettiği şehirlerden birisi değildir?

- A) İstanbul
- B) Ankara
- C) Mekke
- D) Konya
- E) Berlin

5) 29 Ekim 1923'te ne olmuştur?

- A) TBMM açılmıştır.
- B) Atatürk vefat etmiştir.
- C) Cumhuriyetin İlanı
- D) Atatürk'ün Samsun'a çıkışı
- E) Malazgirt Zaferi

6) 'Uzun ince bir yoldayım' ve 'Benim sadık yarım kara topraktır' gibi besteleri olan ozanımız kimdir?

- A) Aşık Mahzuni
- B) Karacaoğlan
- C) Yunus Emre
- D) Aşık Veysel
- E) Pir Sultan Abdal

7) Atatürk; 'Yurtta sulh, cihanda sulh' sözü ile neyin önemini vurgulamaktadır?

- A) Özgürlüğün
- B) Barışın
- C) Sevginin
- D) Dayanışmanın
- E) Tasarrufun

8) Atatürk ekonomik kalkınma için aşağıdakilerden hangisini yapmıştır?

- A) Düzenli ordu kurmuştur.
- B) Erzurum Kongresi yapmıştır.
- C) İzmir İktisat Kongresi yapmıştır.
- D) Orman çiftliği kurmuştur.
- E) Hukuk fakülteleri açmıştır.

9) Aşağıdakilerden hangisi Atatürk'ün özelliklerinden birisi değildir?

- A) Akılcılık
- B) Vatan Sevgisi
- C) Bağımsızlık Duygusu
- D) Çağdaşlık Düşüncesi
- E) Yeni fikirleri önemsememesi

10) 'Ne olursan ol yine de gel' sözü kime aittir?

- A) Atatürk
- B) Yunus Emre
- C) Mevlana
- D) Fatih Sultan Mehmet
- E) Aziz Sançar

11) Aşağıdaki yeniliklerden hangisi yönetim alanında yapılmıştır?

- A) Soyadı kanunu
- B) Saltanatın kaldırılması
- C) Medreselerin kapatılması
- D) Nüfus sayımı
- E) Sümerbank'ın açılması

12) Hangisi 1. Dünya Savaşı'nda Osmanlı Devleti'nin savaştığı devletlerden biri değildir?

- A) Fransa
- B) İngiltere
- C) Yunanistan
- D) İtalya
- E) Japonya

13) Türkiye'nin en büyük dağı olan Ağrı Dağı hangi bölgededir?

- A) Akdeniz Bölgesi
- B) Karadeniz bölgesi
- C) Ege Bölgesi
- D) Marmara Bölgesi
- E) Doğu Anadolu Bölgesi

14) Doktor, hemşire ve hastaneler hangi bakanlığa bağlıdır?

- A) Milli Eğitim Bakanlığı
- B) Adalet Bakanlığı
- C) Sağlık Bakanlığı
- D) Gençlik ve Spor Bakanlığı
- E) Tarım Bakanlığı

15) Çay ülkemizde hangi bölgede yetiştirilir?

- A) Akdeniz Bölgesi
- B) Karadeniz bölgesi
- C) Ege Bölgesi
- D) Marmara Bölgesi
- E) Doğu Anadolu Bölgesi

16) Toprağın kütleler halinde yer değiştirdiği doğal afet hangisidir?

- A) Erozyon
- B) Sel
- C) Çığ
- D) Heyelan
- E) Deprem

17) Türkiye'nin en kısa sınırı olan komşusu hangi ülkedir?

- A) Suriye
- B) Yunanistan
- C) İran
- D) Azerbaycan
- E) Irak

18) Aşağıdakilerden hangisi yakın tarihte karşılaşacağımız sorunlardan biri değildir?

- A) Açlık
- B) Su kaynaklarının tükenmesi
- C) Bazı hayvanların nesillerinin tükenmesi
- D) Buzulların erimesi
- E) Güneşin sönmesi

19) Bir şehrin yol, su, kanalizasyon ve çöplerinin toplanmasından sorumlu olan kişi kimdir?

- A) Cumhurbaşkanı
- B) Vali
- C) Kaymakam
- D) Belediye Başkanı
- E) Muhtar

20) Vatandaşlarımızın büyük bir kahramanlık gösterdiği, Ömer Halisdemir gibi şehitler verdiğimiz olay hangi tarihte gerçekleşmiştir?

- A) 25 Ekim 2000
- B) 15 Temmuz 2016
- C) 29 Ekim 2010
- D) 10 Ocak 2001
- E) 20 Eylül 2022

21) Hangisi bir kış ayıdır?

- A) Ocak
- B) Nisan
- C) Haziran
- D) Mayıs
- E) Ağustos

Bal

Yumurta

Süt

Koza

Tavuk

İnek

İpek Böceği

Balina

Arı

22) Yukarıdaki ürünler ve hayvanlar eşleştirildiğinde hangi hayvan dışta kalır?

- A) Arı
- B) İnek
- C) Balina
- D) İpek Böceği
- E) Tavuk

23) Genellikle okul önlerinde ve caddelerde karşıdan karşıya geçmek için yola çizilen kesikli çizgilere ne denir?

- A) Kaldırım
- B) Rampa
- C) Yaya geçiti
- D) Trafik lambası
- E) Trafik tabelası

24) En büyük yüz ölçümüne sahip şehrimiz neresidir?

- A) Konya
- B) Ankara
- C) Trabzon
- D) Hatay
- E) İstanbul

25) Ülkemizde milletvekili seçimleri kaç yılda bir yapılır?

- A) 1
- B) 2
- C) 3
- D) 4
- E) 5

26) Ülkemizde en çok konuşulan dil hangisidir?

- A)İngilizce B)Arapça C)Türkçe
D)Almanca E)Rusça

27) Hangisi insanın temel haklarından değildir?

- A) Din ve vicdan özgürlüğü
B) İfade özgürlüğü
C) Adil yargılanma hakkı
D) Eğitim hakkı
E) Kıyafet alma hakkı

28) Hıristiyan vatandaşlarımızın ibadet yaptıkları yere ne denir?

- A)Cami B)Kilise C)Sinagog
D)Türbe E)Avm

29) Aşağıdaki paralardan hangisinin kağıt banknotu yoktur?

- A) 10 TL B)20 TL C)30 TL
D)50 TL E)100 TL

30) Aşağıdaki hayvanlardan hangisi bir yönü ile diğerlerinden farklıdır?

- A)Leylek B)Kartal C)Zürafa
D)Martı E)Şahin

SINAVINIZ BİTTİ.

TESTİNİZİ KONTROL EDİNİZ.