



EKİNCİ ÖZEL EĞİTİM MESLEK OKULU

HATAY ANTAKYA

EKİNCİ ÖZEL EĞİTİM MESLEK OKULU

E-KPSS ORTAÖĞRETİM DENEME SINAVI

4

TC KİMLİK NO		OKULU	
ADI SOYADI		ADAY İMZA	
SALON/SIRA NO		SALON GÖREVLİSİ İMZA	

AÇIKLAMA

1. Bu kitapçıkta Genel Kültür ve Genel Yetenek testi bulunmaktadır.
2. Bu kitapçıkta iki test toplam 60 sorudan oluşmaktadır.
3. Bu kitapçıkta testlerde yer alan her sorunun sadece bir doğru yanıtı vardır. Bir soru için birden çok cevap yeri işaretlenmişse o soru yanlış işaretlenmiş sayılacaktır.
4. İşaretlediğiniz bir cevabı değiştirmek istediğinizde, silme işlemini çok iyi yapmanız gerektiğini unutmayınız.

Bu kitapçık özel eğitim öğrencilerinin E-KPSS çalışmalarına destek olmak amacıyla Ekinci Özel Eğitim Meslek Okulu Sınıf Öğretmeni **Başak Eroğlu Şilen** tarafından hazırlanmıştır.

GENEL YETENEK TESTİ (30 SORU)

1. 'Kırılmak' sözcüğü aşağıdaki cümlelerin hangisinde gerçek anlamı dışında kullanılmıştır?

- a) Kardeşim mutfaktaki tabağı kırdı.
- b) Annem koltuğun ayağını kırdı.
- c) Beni ne kadar kırdığını anlatamam.
- d) Futbol oynarken ayağını kırdı.
- e) Çok ince bir camı vardı, hemen kırıldı.

Yazılışları ve okunuşları aynı, anlamları farklı olan sözcüklere eş sesli (sesteş) sözcükler denir.

2. Aşağıda altı çizili sözcüklerden hangisinin eş seslisi (sesteşi) yoktur?

- a) Kardeşim ata binmeyi çok sever.
- b) Gülmek sana çok yakışıyor.
- c) Yüz kere söyledim, hala anlamıyor.
- d) Gemilerin boğazdan geçmesine izin verilmeyecek.
- e) Deneme sınavından iyi puan alamadım.

3. 'Küplere binmek' deyimini hangi zamanlarda kullanılır?

- a) Mutlu olduğumuzda
- b) Sinirlendiğimizde, kızdığımızda
- c) Acele ettiğimizde
- d) Geç kaldığımızda
- e) Güldüğümüzde, eğlendiğimiz zamanlarda

4. Aşağıdaki cümlelerden hangisi soru cümlesi değildir?

- a) Annen evde mi?
- b) Telefonu açacak mısın?
- c) Öğretmenimiz ödev verdi mi?
- d) Yarın okula mutlaka gel.
- e) Sınav sonuçları belli oldu mu?

5. Aşağıdaki cümlelerin hangisinde 'neden-sonuç' ilişkisi yoktur?

- a) Derse geç kaldığı için sınıfa alınmadı.
- b) Yağmur yağdığı için kar eridi.
- c) Başarılı olmak için ders çalışmalısın.
- d) Sıcak çay içmeyi severim.
- e) Bize gelmek için annenden izin almalısın.

6.Aşağıdaki cümlelerden hangisi nesnel (kişiden kişiye göre değişmeyen) bir yargıdır.

- a) Ankara Türkiye'nin başkentidir.
- b) Pembe rengini çok severim.
- c) En sevdiğim mevsim ilkbahardır.
- d) Kitap okumak dünyanın en güzel şeyidir.
- e) Ders çalışmayı sevmiyorum.

7.Karşılaştırma, iki varlık ya da kavramın birbirine benzer ya da farklı yönlerinin belirtilmesidir. Aşağıdaki cümlelerin hangisinde karşılaştırmaya yer verilmiştir?

- a) İdil'in boyu Ezgi'nin boyundan daha uzun.
- b) Çiçekler rengarenk açmış.
- c) Bütün gün boyama yaptı.
- d) Akşama konsere gideceğiz.
- e) Bu sınavlar beni çok yordu.

- Balık
- Olta
- Deniz

8. Yukarıdaki kelimelerin sözlükten bulmaya çalıştığımızda baştan sonra doğru sıralaması nasıl olur?

- a) Olta - Balık - Deniz
- b) Balık - Deniz - Olta
- c) Deniz - Olta - Balık
- d) Balık - Olta - Deniz
- e) Deniz - Balık - Olta

Özel ad; tek bir varlığa verilen adlardır.

9.Aşağıda altı çizili sözcüklerden hangisi özel ad değildir?

- a) Tekir bugün sürekli miyavladı.
- b) Bu akşam uçakla İstanbul'a gidiyorum.
- c) Türkçe en zengin diller arasındadır.
- d) Bu akşam kahve içmeye gidelim mi?
- e) Arkadaşım Elif çok anlayışlı bir insandır.

10. İyelik ekleri cümleye sahiplik anlamı katan sözcüklerdir.

- a) Benim kitabımı kim aldı?
- b) Senin evine yarın geleceğiz.
- c) Onların ödevini vermeye gidiyorum.
- e) Okula biraz önce geldim.
- f) Bizim evimiz aşağıdaki sokakta.

İş, oluş, hareket bildiren sözcüklere yüklem yüklem denir. Genellikle sözcüğe 'mek-mak' eki getirilerek bulunur.

11. Aşağıda altı çizili sözcüklerden hangisi yüklem değildir?

- a) Bu akşam kar yağacak.
- b) Ödevlerini hemen bitirmelisin.
- c) Yazı yazmak çok yorucu.
- d) En sevdiğim renk mavidir.
- e) Kardeşimle beraber bulaşıkları yıkadık.

Yükleme sorulan 'neyi, kimi' sorularının cevabı bize nesneyi vermektedir.

12. Altı çizili sözcüklerden hangisi nesnedir?

- a) Ali pencereyi kırdı.
- b) Akşam yemeğine bize geldiler.
- c) Okulda çok yoruldum.
- d) Akşam yemekte buluşalım.
- e) Kediler ve köpekler evcil hayvanlardır.

13. Aşağıdaki cümlelerden hangisine farklı bir noktalama işareti getirilmelidir?

- a) Yaz akşamlarında yürüyüş yapmayı çok seviyorum
- b) Bugün kütüphaneye gidecek miyiz
- c) Kelebekler sadece bir gün yaşarmış
- d) Tükenmez kalemimi evde unuttum
- e) Üstüme bir yorgunluk çöktü

Annem beni markete gönderdi () Marketten ekmek () yumurta () süt () sakız ve çikolata almamı istedi () Peki ben bunların hepsini taşıyabilir miyim ()

14. Yukarıda boş bırakılan yerlere hangi noktalama işaretleri getirilmelidir?

- a) (. , / , . ?)
b) (? ? . , , ?)
c) (, . . ? , .)
d) (, , , ? , ,)
e) (. . . , ? ?)

15. Aşağıdaki cümlelerin hangisinde yazım yanlışı vardır?

- a) Ankara Türkiye'nin başkentidir.
b) Türkiye'nin en büyük gölü Van Gölü'dür.
c) ceren benim en iyi arkadaşımdır.
d) Arkadaşım Saraykent Mahallesi'nde oturuyor.
e) Yüz ölçümü en büyük olan ilimiz Konya'dır.

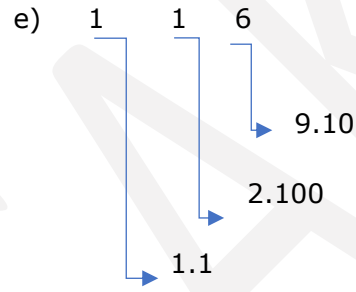
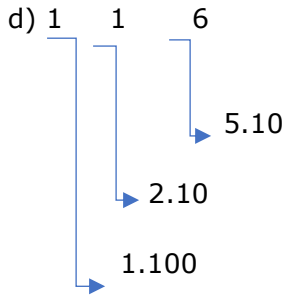
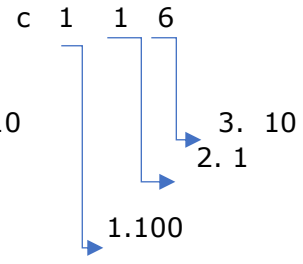
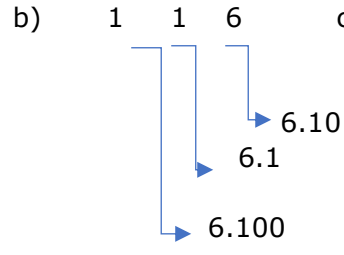
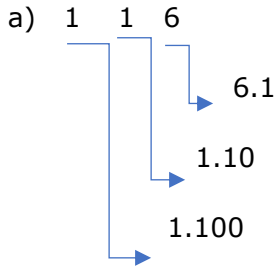
16. $3a = 27$ ise a kaçtır?

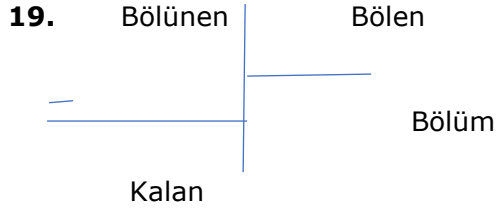
- a) 9 b) 3 c) 4 d) 6 e) 5

17. Aşağıdakilerden hangisi çift sayıdır?

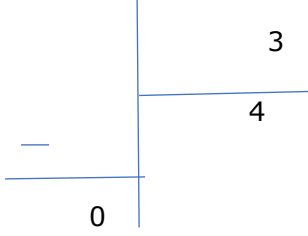
- a) 5 b) 9 c) 6 d) 3 e) 1

18. 116 sayısının çözümlenmiş şekli aşağıdakilerden hangisidir?





bölünen = bölen. bölüm + kalan ise



işleminde bölünen kaçtır?

a)12

b)14

c)15

d)16

e)17

20. $\frac{3}{4} + \frac{5}{4}$

işleminin sonucu kaçtır?

a) $\frac{6}{3}$

b) $\frac{8}{4}$

c) $\frac{3}{6}$

d) $\frac{9}{7}$

e) $\frac{8}{3}$

21. $2^2 \cdot 4^2$

işleminin sonucu kaçtır?

a) 64

b) 16

c) 8

d) 25

e) 56

22. $\sqrt{25} + \sqrt{16}$

işleminin sonucu kaçtır?

a) 9

b) 26

c)23

d) 20

e) 40

Doğru orantı ; değişkenlerden biri artarken diğeri de artıyorsa veya biri azalırken diğeri de azalıyorsa şeklinde açıklanır.

23.Yukarıdaki bilgiye göre ; 5 işçi günde 10 halı dokuyorsa ,10 işçi günde kaç halı dokur?

- a) 20 b) 3 c) 35 d) 26 e) 40

24. 4 katının 5 eksiği 15 olan sayı kaçtır?

- a) 5 b) 1 c) 10 d)8 e) 9

25.Ezgi ve İdil' in yaşları toplamı 9 dur. İdil Ezgi' den 1 yaş büyük olduğuna göre Ezgi kaç yaşındadır?

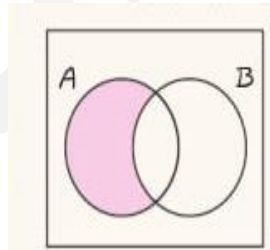
- a) 4 b) 10 c) 14 d) 12 e) 16

Hareket problemlerinde formülümüz $\text{yol} = \text{hız} \cdot \text{zaman}$ şeklindedir.

26. Bu bilgiye göre bir araç 120 km'lik yolu 60 km hızla kaç saatte gider?

- a) 8 b) 2 c) 6 d) 9 e) 3

27.



Taralı alanın matematiksel ifadesi nedir?

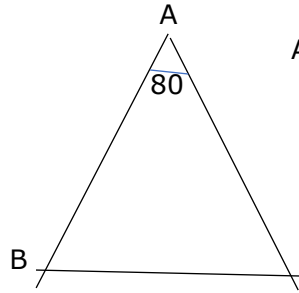
- a) $A \setminus B$ b) $A \cup B$ c) $B \cap A$ D) $B \setminus A$ e) $B \cup A$

28. Tam sayılarda tanımlı

$a \Delta b = a^2 + b^2$ ise $2 \Delta 1$ kaçtır?

- a)5 b) 10 c) 3 d) 2 e) 1

29.

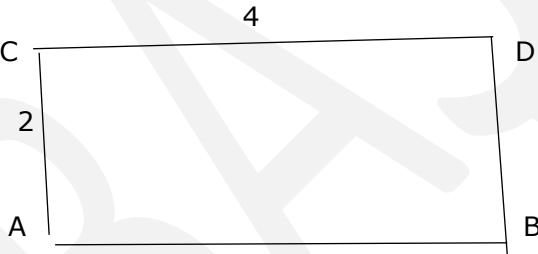


ABC ikizkenar bir üçgen $|AB| = |AC|$ ise

$m(B)$ ve $m(C)$ kaç derecedir?

- a)50 b)10 c)30 d)90 e)20

30.



$|CD| = 4$

$|CA| = 2$ ise

Çevre (ABCD) kaçtı

- a) 10 b) 12 c) 20 d) 25 e) 30

GENEL KÜLTÜR TESTİ (30 SORU)

1. Türklerin ilk anayurdu neresidir?

- a) Orta Asya
- b) Amerika
- c) Avrupa
- d) Afrika
- e) Avustralya

Tarihte biline ilk Türk topluluğudur. En ünlü hükümdarı Alp Er Tunga'dır.

2. Yukarıda sözü edilen topluluk hangisidir?

- a) İskitler
- b) Osmanlı Devleti
- c) Göktürk Devleti
- d) Uygurlar
- e) Avarlar

3. Orhun Yazıtları hangi devlete aittir?

- a) Avarlar
- b) Hazarlar
- c) Göktürk Devleti
- d) Avrupa Hun Devleti
- e) Asya Hun Devleti

4. Kendilerine özgü alfabeleri olan devlet hangisidir?

- a) Uygur Devleti
- b) Bulgarlar
- c) Kırgızlar
- d) Sabirler
- e) Macarlar

5. İslamiyeti kabul eden ilk Türk boyu aşağıdakilerden hangisidir?

- a) Macarlar
- b) Avarlar
- c) Karluklar
- d) Kırgızlar
- e) Bulgarlar

6. En uzun Türk destanı olan Manas Destanı hangi topluluğa aittir?

- a) Peçenekler
- b) Avarlar
- c) Kırgızlar
- d) Türgeşler
- e) Osmanlı Devleti

7.Çin kaynaklarına göre Juan Juan adı verilen Türk topluluğu aşağıdakilerden hangisidir?

- a) Akhun Devleti
- b) İskitler
- c) Karluklar
- d) Avarlar
- e) Macarlar

8.İlk Türk devletlerinde devlet meselelerinin görüşüldüğü yere hangi isimler verilirdi?

- a) Tuğ, boy
- b) Hakan, balbal
- c) Yabgu , kağan
- d) Toy, kurultay, kengeş
- e) Tigin

9. Atatürk ne zaman Samsun'a çıkmıştır?

- a) 23 Nisan 1920
- b) 29 Ekim 1923
- c) 16 Mart 1920
- d) 22 Haziran 1919
- e) 19 Mayıs 1919

10.Türkiye Cumhuriyeti'nin ilk Cumhurbaşkanı kimdir?

- a) Mustafa Kemal Atatürk
- b) İsmet İnönü
- c) Celal Bayar
- d) Fethi Okyar
- e) Kazım Karabekir

Atatürk İlke ve İnkılapları Türk toplumunun ihtiyaçlarından doğmuştur.

11.Aşağıdakilerden hangisi Atatürk İlke ve İnkılaplarından değildir?

- a) Halkçılık
- b) Cumhuriyetçilik
- c) Laiklik
- d) İslamcılık
- e) Devletçilik

12.Dünyayı ikiye bölen çizginin adı nedir?

- a) Enlem
- b) Boylam
- c) Ekvator
- d) Meridyen
- e) Paralel

13.Türkiye'nin en uzun kara sınırı hangi ülkededir?

- a) Nahcivan
- b) Suriye
- c) Irak
- d) Gürcistan
- e) Almanya

Haritada yer şekilleri renklendirme yöntemi ile gösterilir. Yükseltisi az olan yerler yeşille gösterilirken yükseltisi fazla olan yerler kahverengi ile gösterilir.

14.Buna göre kahverenginin yoğun olarak gösterildiği bölgemiz aşağıdakilerden hangisidir?

- a) Doğu Anadolu Bölgesi
- b) Akdeniz Bölgesi
- c) Ege Bölgesi
- d) Marmara Bölgesi
- e) Güneydoğu Anadolu Bölgesi

15.Peribacaları ülkemiz için önemli turizm yerlerindedir. Peribacaları hangi ilimizde yer almaktadır?

- a) Mardin
- b) İzmir
- c) Nevşehir
- d) Kahramanmaraş
- e) Adana

16.Aşağıdakilerden hangisi Türkiye'nin bölgelerinden değildir?

- a) Marmara Bölgesi
- b) Akdeniz Bölgesi
- c) Avrupa
- d) Karadeniz Bölgesi
- e) Ege Bölgesi

17.Türkiye'de görülen iklim tipleri hangileridir?

- a) Akdeniz , Karadeniz, Karasal İklim
- b) Muson, Ekvatorial, Karasal İklim
- c) Çöl , Okyanusal İklim
- d) Tundra, Kutup İklimi
- e) Yüksek Dağ İklimi

18.Aşağıdaki bölgelerden hangisinin yıllık ortalama yağış miktarı en fazladır?

- a) Ege Bölgesi
- b) Karadeniz Bölgesi
- c) Güneydoğu Anadolu Bölgesi
- d) Doğu Anadolu Bölgesi
- e) Akdeniz Bölgesi

19.Akdeniz ikliminin bitki örtüsü aşağıdakilerden hangisidir?

- a) Maki
- b) Orman
- c) Bozkır
- d) Çayır
- e) Ot

20.Ülkemizde en çok üretilen tarım ürünleri nelerdir?

- a) Tahıllar
- b) Balık
- c) Çay
- d) Fındık
- e) Patates

21. Türkiye’de ormancılık ve balıkçılığın en çok yapıldığı bölge hangisidir?

- a) Ege Bölgesi
- b) Akdeniz Bölgesi
- c) Marmara Bölgesi
- d) Karadeniz Bölgesi
- e) Akdeniz Bölgesi

Lületaşı Eskişehir’de çıkarılan ve süs eşyası yapımında kullanılan bir taştır. Oltu Taşı da aynı amaçla çıkarılan ve kullanılan bir taştır.

22. Oltu taşı hangi ilimizde çıkarılmaktadır?

- a) Ankara
- b) Sivas
- c) Isparta
- d) Gümüşhane
- e) Erzurum

23. İnsanların birbirleriyle olan ilişkilerini düzenleyen, uyulması için devlet gücü ile desteklenen kurallara ne denir?

- a) Hukuk Kuralları
- b) Ev Kuralları
- c) Okul Kuralları
- d) Sokak Kuralları
- e) Şehir Kuralları

Hukuk kurallarına uymayan insanlara verilir.

24. Boş bırakılan yere aşağıdakilerden hangisi getirilmelidir?

- a) ödül
- b) ceza
- c) kitap
- d) para
- e) tazminat

25. Emniyet Genel Müdürlüğü, Jandarma Genel Komutanlığı gibi kuruluşlar hangi bakanlığa aittir?

- a) Milli Eğitim Bakanlığı
- b) Enerji Bakanlığı
- c) İç İşleri Bakanlığı
- d) Spor Bakanlığı

e) Maliye Bakanlıđı

26.Devletin kamu yararını gerekçe göstererek bir kimsenin sahipliđinde bulunan özel mülkiyete rızası dışında son vermesine ne denir?

- a) İcra
- b) Kariyer
- c)İşgal
- d)Liyakat
- e) Kamulaştırma

27.Hava olaylarının incelendiđi bilim dalına ne denir?

- a) Meteoroloji
- b) Sosyoloji
- c) Biyoloji
- d) Psikoloji
- e)Arkeoloji

28.TBMM genel oyla seçilen kaç milletvekilinden oluşmuştur?

- a) 100
- b) 600
- c) 150
- c) 300
- d) 120
- e) 180

29.10 Mayıs 2021 tarihinde dünya sıralamasında olimpik yay erkekler kategorisinde 2. sıraya ulaşan sporcumuz kimdir?

- a) Mete Gazoz
- b) Fatih Terim
- c) İbrahim Kutluay
- d) Emre Mor
- e) Sabri Sarı

30.24 Şubat 2022 tarihinde Rusya'nın askeri operasyon başlattığı ülke aşağıdakilerden hangisidir?

- a) Ukrayna
- b) Azerbaycan
- c) Gürcistan
- d) Irak
- e) Suriye

SINAVINIZ BİTTİ.KONTROL EDİNİZ

BASAK