



EKİNCİ ÖZEL EĞİTİM MESLEK OKULU

HATAY ANTAKYA

EKİNCİ ÖZEL EĞİTİM MESLEK OKULU

E-KPSS ORTAÖĞRETİM DENEME SINAVI

1

TC KİMLİK NO		OKULU	
ADI SOYADI		ADAY İMZA	
SALON/SIRA NO		SALON GÖREVLİSİ İMZA	

AÇIKLAMA

1. Bu kitapçıkta Genel Kültür ve Genel Yetenek testi bulunmaktadır.
2. Bu kitapçıkta iki test toplam 60 sorudan oluşmaktadır.
3. Bu kitapçıkta testlerde yer alan her sorunun sadece bir doğru yanıtı vardır. Bir soru için birden çok cevap yeri işaretlenmişse o soru yanlış işaretlenmiş sayılacaktır.
4. İşaretlediğiniz bir cevabı değiştirmek istediğinizde, silme işlemini çok iyi yapmanız gerektiğini unutmayınız.

Bu kitapçık özel eğitim öğrencilerinin E-KPSS çalışmalarına destek olmak amacıyla Ekinci Özel Eğitim Meslek Okulu Sınıf Öğretmeni **Başak Eroğlu Şilen** tarafından hazırlanmıştır.

GENEL YETENEK TESTİ (30 SORU)

1. **Aşağıdaki hecelerden hangilerinden anlamlı bir sözcük oluşturulur?**

- a) ra-ta-ma
- b) ya-se-me
- c) ka-me-te
- d) nu-pa-sa
- e) le-fe-ma

2. Sağlıklı olmak için

Yukarıdaki cümlelerin sonuna hangisi getirilemez?

- a) temiz olmalıyız
- b) güzel beslenmeliyiz
- c) sigara içmemeliyiz
- d) temiz hava almalıyız
- e) okula gitmeliyiz

3. 1. Dost musun düşman mısın bilemedim.

2. Bugün hava çok güzel.

3. Çalışkan öğrencileri seviyorum.

4. Müzik dinlemek ruhumuzu dinlendiriyor.

5. Yarın deneme sınavı olacağız.

Yukarıdaki cümlelerin hangisinde zıt anlamlı sözcükler kullanılmıştır ?

- a) 1 b)2 c)3 d)4 e)5

4. Ayşegül kısa boylu, kısa saçlı, kahverengi gözlü bir öğrencidir. Burcu orta boylu, kısa saçlı, yeşil gözlü bir öğrencidir.

Yukarıda bahsedilen Ayşegül ve Burcu'nun ortak yönü hangisidir ?

- a) gözlükleri b) boyları c) saçları d) gözleri e) burunları

5. 16 Şubat'ta kardeşimle beraber alışveriş merkezine film izlemeye gideceğiz.

Yukarıdaki cümlede hangisinin cevabı yoktur ?

- a) Ne zaman?
- b) Kiminle ?
- c) Nereye ?
- d) Neden ?
- e) Nasıl ?

6. 1. al
2. ekmek
3. eve
4. iki
5. gelirken

Yukarıdaki sözcüklerden anlamlı ve kurallı bir cümle oluşturulduğunda kaç numaralı sözcük ilk sırada yer alır ?

- a) 5 b) 1 c) 3 d) 2 e) 4

7. Göbeklitepe şanlıurfa' da yer alan önemli bir tarihi mekandır.
- 1 2 3 4 5

Yukarıdaki cümledeki sözcüklerden hangisinin yazımı yanlıştır ?

- a) 3 b) 5 c) 4 d) 2 e) 1

8. **Aşağıdaki cümlelerden hangisinin sonuna nokta (.) işareti getirilemez ?**

- a) Bugün hava güneşli
- b) Yarın okula gelecek misin
- c) Annemle beraber kek yaptık
- d) Bu akşam bize yemeğe gel
- e) Ceren Eskişehir'e gitti

9. Yaz mevsimi en sevdiğim mevsimdir. Havanın sıcaklığı, insanların neşesi bana huzur verir. Ayrıca yazın yapacak o kadar çok şey var ki. Mesela

Bu parçanın sonuna aşağıdakilerden hangisi getirilemez ?

- a) denize gidilebilir
- b) karıncaların kışa hazırlıkları izlenebilir
- c) kamp yapılabilir
- d) kardan adam yapılabilir
- e) kış için konserve hazırlanabilir

10. Bukalemun bir hayvandır. Bu hayvan tehlike anında bulunduğu yerin rengini olarak kolayca gizlenebilir ve bu şekilde kendini tehlikelerden koruyabilir.

Yukarıdaki parçadan aşağıdaki sorulardan hangisinin cevabı yoktur.

- a) Bukalemun nedir?
- b) Ne zaman renk değiştirir?
- c) Neden renk değiştirir?
- d) Nasıl renk değiştirir?
- e) Ne yer?

Benim adım idil. Size biraz kendimden bahsetmek istiyorum. Ben 7 yaşındayım ve birinci sınıfa gidiyorum. Ezgi adından küçük bir kardeşim var. Ezgiyle beraber oyunlar oynayıp resim yapmayı çok severim. Ezginin en sevdiği meyve çilektir, benim ise elma. Büyüyünce doktor olup insanlara yardım etmeyi çok istiyorum. Çünkü bu beni çok mutlu ediyor.

(11 ve 12. Soruları yukarıdaki metne göre cevaplayınız.)

11. **Ezgi'nin en sevdiği meyve hangisidir ?**

- a) Armut
- b) Çilek
- c) Elma
- d) Kiraz
- e) Portakal

12. **İdil büyüünce ne olmak istiyor ?**

- a) Hemşire
- b) Öğretmen
- c) Diş doktoru
- d) Avukat
- e) Doktor

13. Yeşil elbiseni ne zaman giyeceksin?

1 2 3 4 5

Yukarıda altı çizili sözcüklerden hangisi sıfattır?

- a)1 b)3 c)4 d)5 c)2

14. Eminim o da seni seviyordur belki.

1 2 3 4 5

Yukarıdaki numaralandırılmış sözcüklerden hangisini çıkarırsak anlatım bozukluğunu gidermiş oluruz?

- a)1 b)2 c)3 d)4 e)5

15. Şimşek nedir diye sorduğumda en basit olarak şöyle açıklayabiliriz; bir bulut kümesinin aşırı miktarda + veya – yükü ile yüklenmesiyle meydana gelir ve gözle görülür bir elektrik boşalması olur.

Bu parçada şimşekle ilgili olarak hangi bilgiye ulaşılabilir?

- a) Kimin yaptığına
- b) Nasıl oluştuğuna
- c) Neden oluştuğuna
- d) Neye benzediğine
- e) Nasıl önlenebildiğine

16. $\frac{8-2}{3}$ işleminin sonucu kaçtır ?

- a)5
- b)4
- c)3
- d)2
- e)1

17. $0,3 + 0,7$ işleminin sonucu kaçtır?

- a)1
- b)3
- c)7
- d)0
- e)4

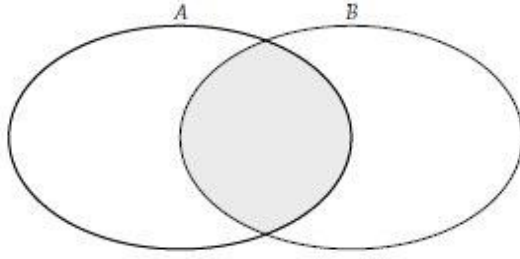
18. $2^2 \cdot 3^2$ işleminin sonucu kaçtır?

- a) 12
- b)13
- c)14
- d)22
- e)36

19. $\sqrt{9} + \sqrt{16}$ işleminin sonucu kaçtır?

- a)7
- b)8
- c)9
- d)16
- e)25

20.



Yukarıda gösterilen taralı alanın matematiksel gösterimi nedir?

- a) $A \cap B$ b) B/A c) A/B d) $B \cup A$ e) A

21. a ve b birer tam sayı olmak üzere;

Ⓐ ve Ⓑ sembolleri

Ⓐ = $2a$

eşitlikleriyle tanımlanıyor .

Ⓑ = $3b$

Buna göre Ⓐ + Ⓑ işleminin sonucu kaçtır?

- a) 10 b) 11 c) 12 d) 13 e) 14

22. Üç basamaklı 4BA sayısı 2 ile, üç basamaklı A24 sayısı 3 ile tam bölünmektedir. Buna göre A rakamı kaçtır?

- a) 3 b) 4 c) 5 d) 6 e) 7

23. Nil ile Nehir'in bugünkü yaşları toplamı 48'dir

Buna göre Nil ile Nehir'in 10 yıl sonraki yaşları toplamı kaçtır?

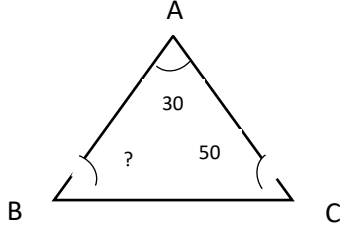
- a) 38 b) 48 c) 28 d) 58 e) 68

24. Bir torbadaki 40 tane topun $\frac{1}{2}$ si kırmızıdır. $\frac{1}{4}$ ü mavidir. Ve geriye kalanı yeşildir.

Buna göre bu torbada kaç yeşil top vardır?

- a) 10 b) 20 c) 15 d) 24 e) 12

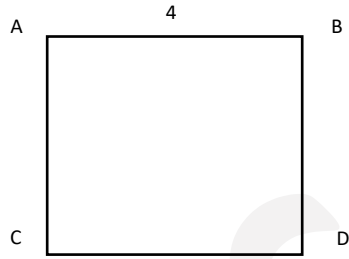
25.



B Açısı kaç derecedir?

- a) 80 c) 100 c) 120 d) 90 e) 150

26.

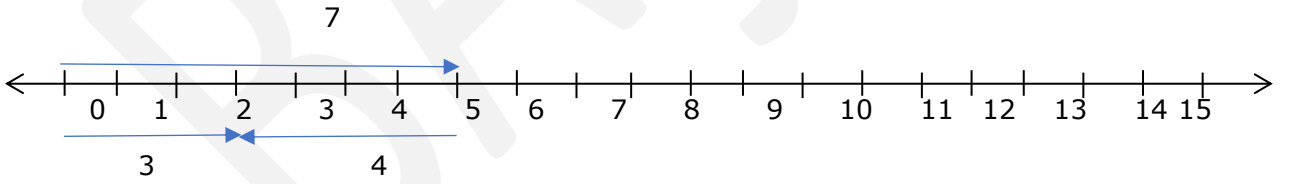


ABCD bir kare $IABI = 4$ birim

Buna göre karenin çevresi kaç birimdir?

- a) 4 b) 8 c) 12 d) 16 e) 20

27.



Yukarıdaki sayı doğrusunda verilen işlemin yazılışı nasıldır?

- a) $7-4=3$ b) $3+2=5$ c) $4-3=1$ d) $9+1=10$ e) $4-2=2$

28. Kırtasiyede satılan ürünleri;

Kalem /////
Silgi ///
Açacak ///
Defter /////

Her çizgi satılan bir ürün miktarını göstermektedir.

Yukarıdaki grafikte ilgili verilen bilgilerin hangisi yanlıştır?

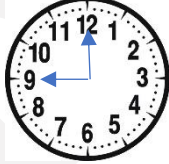
- a) 6 adet kalem satılmıştır.
- b) En az silgi satılmıştır.
- c) 4 adet açacak satılmıştır.
- d) 8 adet defter satılmıştır.
- e) En çok açacak satılmıştır.

29. **Saatteki ortalama hızı 30 km olan bir bisiklet 1 saatte kaç km yol gider?**

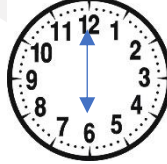
- a) 3
- b) 30
- c) 300
- d) 60
- e) 120

30. **Okulumuzda ders saat 9.15te başlamaktadır. 9.15'in saat ile gösterimi hangisidir?**

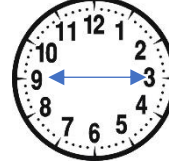
a)



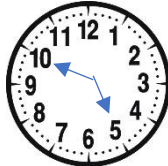
b)



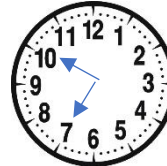
c)



d)



e)



GENEL KÜLTÜR TESTİ (30 SORU)

1. TBMM hangi yıl açılmıştır?

- a)1923 b)1924 c)1920 d)1932 e)1936

2. İstanbul'u fetheden Osmanlı hükümdarı kimdir?

- a) Kanuni Sultan Süleyman
b) Yavuz Sultan Selim
c) Yıldırım Bayezid
d) Mustafa Kemal Atatürk
e) Fatih Sultan Mehmet

3. Türk adıyla kurulan ilk devlet hangisidir?

- a) Asya Hun Devleti
b) Avrupa Hun Devleti
c) Göktürk Devleti
d) Uygur Devleti
e) Akhun Devleti

4. İstanbul'u kuşatan ve Hristiyanlığı kabul eden ilk Türk devleti hangisidir?

- a) Kızgırlar
b) Avarlar
c) Hunlar
d) İngilizler
e) Urartular

5. İlk Türk İslam devleti hangisidir?

- a) Büyük Hun İmparatorluğu
b) Ak Hun İmparatorluğu
c) Karahanlılar
d) Hazar Kağanlığı
e) Macarlar

6. Cumhuriyet ne zaman ilan edilmiştir?

- a) 29 Ekim 1923
b) 24 Nisan 1923
c) 19 Mayıs 1919
d) 14 Kasım 1924
e) 16 Ekim 1924

7. Din ve Devlet işlerinin birbirinden ayrılmasına ne denir?

- a) Milliyetçilik
- b) Halkçılık
- c) Laiklik
- d) Devletçilik
- e) İnkılapçılık

8. Aşağıdakilerden hangisi Atatürk ilke ve inkılaplarından biri değildir?

- a) Halkçılık
- b) Laiklik
- c) Cumhuriyetçilik
- d) Akılcılık
- e) Devletçilik

9. Atatürk hangi savaştan sonra ün kazanmıştır?

- a) Sakarya Meydan Muharebesi
- b) Çanakkale Savaşı
- c) II.Dünya Savaşı
- d) Köseadağ Savaşı
- e) İstanbul'un fethi

10. Gökbeği Tepe hangi ilimizde yer almaktadır?

- a) Gaziantep
- b) Bursa
- c) İstanbul
- d) Şanlıurfa
- e) Kahramanmaraş

11. Hatay da bulunan demir-çelik fabrikası hangi ilçededir?

- a) İskenderun
- b) Hassa
- c) Samandağ
- d) Altınözü
- e) Reyhanlı

12. Aşağıdaki ülkelerden hangisi Türkiye'nin komşularından değildir?

- a) Almanya
- b) İran
- c) Irak
- d) Suriye
- e) Gürcistan

13.Asi nehri hangi ilimizdedir?

- a) Adana
- b) Hatay
- c) Yalova
- d) Mersin
- e) Konya

14.Rüzgardaki kinetik enerjiyi elektrik enerjisine çeviren sistemin adı nedir?

- a) Hidroelektrik Santrali
- b) Nükleer santral
- c) Jeotermik santral
- d) Rüzgar tribünü
- e) Güneş Jeneratörlü Santral

15.Vatandaşların huzurunu ve güvenliğini sağlayan görevli memur kimdir?

- a) Öğretmen
- b) Zabıta
- c) Doktor
- d) Veteriner
- e) Polis

16.Eğitim ve öğretimle ilgilenen bakanlık hangisidir?

- a) İçişleri Bakanlığı
- b) Milli Eğitim Bakanlığı
- c) Hazine Ve Maliye Bakanlığı
- d) Kültür Ve Turizm Bakanlığı
- e) Gençlik Ve Spor Bakanlığı

17.Adliyelerde görev yapan, hukuk fakültesi mezunu olan ve bir baroya kayıtlı olarak işini yapan meslek grubu nedir ?

- a) Öğretmen
- b) Doktor
- c) Polis
- d) Avukat
- e) Şoför

18.Corona virüs için Türkiye'nin geliştirdiği aşının adı nedir?

- a) Biontech
- b) Sinovac
- c) Turkovac
- d) Sputnik V
- e) Moderna

19.Aşağıdaki bilgilerden hangisi yanlıştır?

- a) İli vali yönetir
- b) Köyü muhtar yönetir
- c) İlçeyi kaymakam yönetir
- d) Ülkeyi başbakan yönetir
- e) Okulu belediye başkanı yönetir

20.Kanunlar nerede yayınlanır?

- a) Resmi gazetede
- b) Afişlerde
- c) Televizyonda
- d) Radyolarda
- e) Dergilerde

21.2019 yılında Çin'de başlayıp tüm dünyaya yayılan virüsün adı nedir?

- a) Grip
- b) Kızamık
- c) Covid-19
- d) Hepatit
- e) Suçiçeği

22.2021 EXPO hangi ilimizde yapılacaktır?

- a) Mersin
- b) Erzurum
- c) Hatay
- d) Ankara
- e) İstanbul

23.Tüm dünyada en çok kullanılan dil hangisidir?

- a) Türkçe
- b) Çince
- c) İngilizce
- d) Japonca
- e) İspanyolca

24.Aşağıdakilerden hangisinde Türkiye'nin topraklarının bulunduğu kıtalar yer almaktadır?

- a) Asya-Afrika
- b) Asya-Avrupa
- c) Antarktika-Asya
- d) Antarktika-Amerika
- e) Amerika-Asya

25.Dünyanın en uzun nehri hangisidir?

- a) Nil Nehri
- b) Asi Nehri
- c) Amazon Nehri
- d) Kongo Nehri
- e) Dicle Nehri

26.Türkiye'nin en büyük gölü hangisidir?

- a) Tuz Gölü
- b) Beyşehir Gölü
- c) Sapanca Gölü
- d) Van Gölü
- e) Eğirdir Gölü

27.Türklerin bilinen ilk alfabesi hangisidir?

- a) Arap Alfabesi
- b) Latin Alfabesi
- c) Kiril Alfabesi
- d) Tamil Alfabesi
- e) Göktürk Alfabesi

28.İstiklal marşımızın yazarı kimdir?

- a) Necip Fazıl KISAKÜREK
- b) Yaşar KEMAL
- c) Mehmet Akif ERSOY
- d) Reşat Nuri GÜNTEKİN
- e) Yakup Kadri KARAOSMANOĞLU

29.Türklerde en yaygın dini inanış hangisidir?

- a) Göktürk İnancı
- b) Şamanizm
- c) Müslümanlık
- d) Musevilik
- e) Hristiyanlık

30.Biontech aşısını bulan Almanya da yaşayan Türk bilim insaları kimlerdir?

- a) Orhan PAMUK – Fazıl SAY
- b) Uğur ŞAHİN – Özlem TÜRECİ
- c) Volkan KONAK – Sezen AKSU
- d) Barış MANÇO – Sertap ERENER
- e) Candan ERÇETİN – Cem KARACA